


1

Trouve l'aire et le périmètre des figures suivantes :  
(attention elle ne sont pas à taille réelle.)




Périmètre : ..... = .....

Le périmètre de cette figure est de .....

Aire : ..... = .....

L'aire de cette figure est de .....

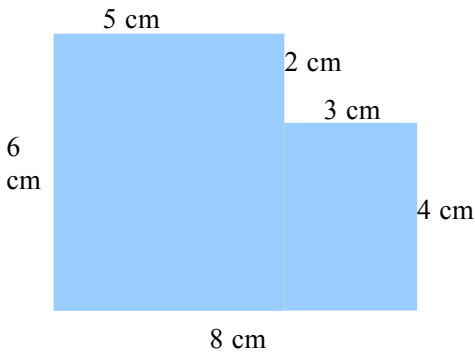


Périmètre : ..... = .....

Le périmètre de cette figure est de .....

Aire : ..... = .....

L'aire de cette figure est de .....



Périmètre : ..... = .....

Le périmètre de cette figure est de .....

Aire : ..... = .....


L'aire de cette figure est de .....

2

Trouve les mesures de ces figures en respectant le périmètre et l'aire

Périmètre : 20 cm

Aire : 25 cm<sup>2</sup>



Périmètre : 20 cm

Aire : 24 cm<sup>2</sup>

