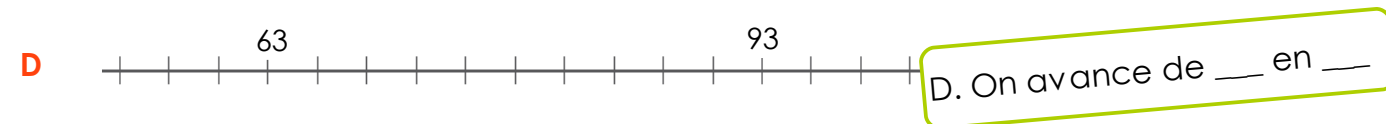
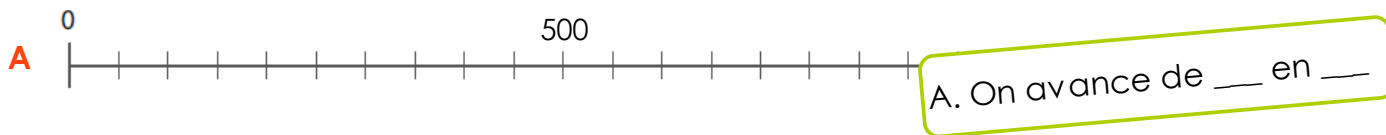


1

Pour chaque droite graduée, trouve la valeur d'une intervalle.
(De combien avance-t-on à chaque graduation ?)



2

Place les nombres suivants au bon endroit.

Droite A : 150 – 75 – 450 – 300 – 525 – 610

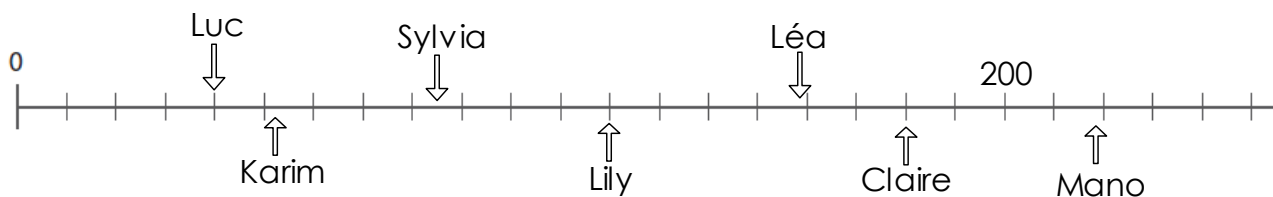
Droite B : 60 – 120 – 70 – 150 – 180 – 300

Droite C : 120 – 200 – 105 – 165 – 79 – 170

Droite D : 69 – 87 – 78 – 80 – 97 – 56

3

Des enfants ont joué à un jeu, voici une droite graduée qui présente leurs scores.



Quel est le score réalisé par :

Luc : ___ Karim : ___ Sylvia : ___ Lily : ___ Léa : ___ Mano : ___ Claire : ___