


1

Entoure le poids qui te semble le mieux convenir



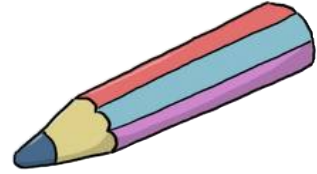
une feuille de papier :

1mg - 1g - 1hg



un cartable :

5g - 5 dag - 5 kg - 50 kg




un crayon :

60 dg - 60dag - 60hg




une voiture :

1200 g - 1200 dag - 1200kg



une bouteille :

1hg - 1kg - 10kg

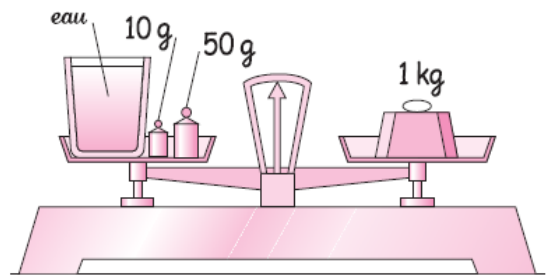
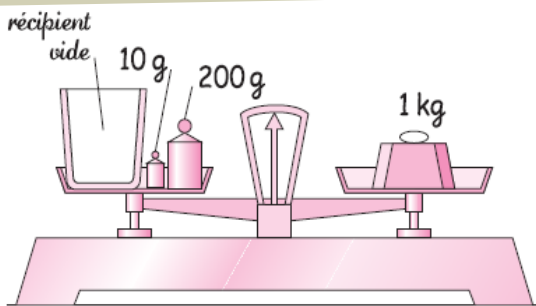


un éléphant :

50kg - 500kg - 5tonnes

2

Problème



Quel est le poids du récipient vide ? _____

Quelle masse d'eau a-t-on ajouté dans le récipient ? _____

2

Convertis

3045g = __ kg + _____

407g = __ kg + _____

1200g = __ kg + _____

24080g = __ kg + _____

899dag = __ kg + _____

18hg = __ kg + _____

8kg = _____ g

7hg = _____ g

41hg = _____ g

4dag = _____ g

7g = _____ cg

3dg = _____ cg

2 tonnes = _____ kg

6hg = _____ dag

32g = _____ dg