


# LES GARÇONS !


QUEL EST LE PRÉNOM DE CHAQUE GARÇON ?



ARTHUR JOUE AVEC UNE BALLE, MAIS PAS CÉLIM.  
BASILE N'EST PAS À CÔTÉ DE CÉLIM.  
DAVID A UNE ÉTOILE SUR SES VÊTEMENTS.  
DAVID N'A RIEN SUR LA TÊTE.

# LES GARÇONS !


QUEL EST LE PRÉNOM DE CHAQUE GARÇON ?



ARTHUR JOUE AVEC UNE BALLE, MAIS PAS CÉLIM.  
BASILE N'EST PAS À CÔTÉ DE CÉLIM.  
DAVID A UNE ÉTOILE SUR SES VÊTEMENTS.  
DAVID N'A RIEN SUR LA TÊTE.

# LES GARÇONS !


QUEL EST LE PRÉNOM DE CHAQUE GARÇON ?



ARTHUR JOUE AVEC UNE BALLE, MAIS PAS CÉLIM.  
BASILE N'EST PAS À CÔTÉ DE CÉLIM.  
DAVID A UNE ÉTOILE SUR SES VÊTEMENTS.  
DAVID N'A RIEN SUR LA TÊTE.

# LES GARÇONS !


QUEL EST LE PRÉNOM DE CHAQUE GARÇON ?



CÉLIM ET ARTHUR ONT UNE ÉTOILE SUR LEURS VÊTEMENTS.  
BASILE N'A PAS LA BOUCHE FERMÉE.  
BASILE EST À DROITE DE CÉLIM ET ARTHUR.  
SI DAVID A LES CHEVEUX COUVERTS, ALORS CÉLIM AUSSI.

# LES GARÇONS !


QUEL EST LE PRÉNOM DE CHAQUE GARÇON ?



CÉLIM ET ARTHUR ONT UNE ÉTOILE SUR LEURS VÊTEMENTS.  
BASILE N'A PAS LA BOUCHE FERMÉE.  
BASILE EST À DROITE DE CÉLIM ET ARTHUR.  
SI DAVID A LES CHEVEUX COUVERTS, ALORS CÉLIM AUSSI.

# LES GARÇONS !


QUEL EST LE PRÉNOM DE CHAQUE GARÇON ?



CÉLIM ET ARTHUR ONT UNE ÉTOILE SUR LEURS VÊTEMENTS.  
BASILE N'A PAS LA BOUCHE FERMÉE.  
BASILE EST À DROITE DE CÉLIM ET ARTHUR.  
SI DAVID A LES CHEVEUX COUVERTS, ALORS CÉLIM AUSSI.

# LES GARÇONS !


QUEL EST LE PRÉNOM DE CHAQUE GARÇON ?



ARTHUR EST À DROITE DE BASILE MAIS N'EST PAS À COTÉ DE LUI.  
CÉLIM N'A PAS DE GROS BALLON.  
DAVID AIME LES SPORTS DE BALLE MAIS N'AIME PAS LES ÉTOILES.

# LES GARÇONS !


QUEL EST LE PRÉNOM DE CHAQUE GARÇON ?



ARTHUR EST À DROITE DE BASILE MAIS N'EST PAS À COTÉ DE LUI.  
CÉLIM N'A PAS DE GROS BALLON.  
DAVID AIME LES SPORTS DE BALLE MAIS N'AIME PAS LES ÉTOILES.

# LES GARÇONS !

QUEL EST LE PRÉNOM DE CHAQUE GARÇON ?



ARTHUR EST À DROITE DE BASILE MAIS N'EST PAS À COTÉ DE LUI.  
CÉLIM N'A PAS DE GROS BALLON.  
DAVID AIME LES SPORTS DE BALLE MAIS N'AIME PAS LES ÉTOILES.

# LE CODE

A TOI DE RETROUVER LE BON CODE POUR OUVRIR LE COFFRE-FORT !

5	4	8
---	---	---

UN CHIFFRE CORRECT - BIEN PLACÉ

5	3	0
---	---	---

AUCUN CHIFFRE CORRECT.

1	5	7
---	---	---

DEUX CHIFFRES CORRECTS - MAL PLACÉS

8	0	6
---	---	---

UN SEUL CHIFFRE CORRECT - MAL PLACÉ

6	4	7
---	---	---

UN SEUL CHIFFRE CORRECT - MAL PLACÉ

# LE CODE

A TOI DE RETROUVER LE BON CODE POUR OUVRIR LE COFFRE-FORT !

5	4	8
---	---	---

UN CHIFFRE CORRECT - BIEN PLACÉ

5	3	0
---	---	---

AUCUN CHIFFRE CORRECT.

1	5	7
---	---	---

DEUX CHIFFRES CORRECTS - MAL PLACÉS

8	0	6
---	---	---

UN SEUL CHIFFRE CORRECT - MAL PLACÉ

6	4	7
---	---	---

UN SEUL CHIFFRE CORRECT - MAL PLACÉ

# LE CODE

A TOI DE RETROUVER LE BON CODE POUR OUVRIR LE COFFRE-FORT !

5	4	8
---	---	---

UN CHIFFRE CORRECT - BIEN PLACÉ

5	3	0
---	---	---

AUCUN CHIFFRE CORRECT.

1	5	7
---	---	---

DEUX CHIFFRES CORRECTS - MAL PLACÉS

8	0	6
---	---	---

UN SEUL CHIFFRE CORRECT - MAL PLACÉ

6	4	7
---	---	---

UN SEUL CHIFFRE CORRECT - MAL PLACÉ

# LE CODE

A TOI DE RETROUVER LE BON CODE POUR OUVRIR LE COFFRE-FORT !

- |   |   |   |  |
|---|---|---|--|
| 1 | 3 | 6 | AUCUN CHIFFRE CORRECT                  |
| 0 | 5 | 9 | DEUX CHIFFRES CORRECTS - UN BIEN PLACÉ |
| 0 | 6 | 5 | UN CHIFFRE CORRECT - MAL PLACÉ         |
| 5 | 7 | 9 | DEUX CHIFFRES CORRECTS - BIEN PLACÉS   |
| 8 | 1 | 0 | UN SEUL CHIFFRE CORRECT - MAL PLACÉ    |

# LE CODE

A TOI DE RETROUVER LE BON CODE POUR OUVRIR LE COFFRE-FORT !

- |   |   |   |  |
|---|---|---|--|
| 1 | 3 | 6 | AUCUN CHIFFRE CORRECT                  |
| 0 | 5 | 9 | DEUX CHIFFRES CORRECTS - UN BIEN PLACÉ |
| 0 | 6 | 5 | UN CHIFFRE CORRECT - MAL PLACÉ         |
| 5 | 7 | 9 | DEUX CHIFFRES CORRECTS - BIEN PLACÉS   |
| 8 | 1 | 0 | UN SEUL CHIFFRE CORRECT - MAL PLACÉ    |

# LE CODE

A TOI DE RETROUVER LE BON CODE POUR OUVRIR LE COFFRE-FORT !

- |   |   |   |  |
|---|---|---|--|
| 1 | 3 | 6 | AUCUN CHIFFRE CORRECT                  |
| 0 | 5 | 9 | DEUX CHIFFRES CORRECTS - UN BIEN PLACÉ |
| 0 | 6 | 5 | UN CHIFFRE CORRECT - MAL PLACÉ         |
| 5 | 7 | 9 | DEUX CHIFFRES CORRECTS - BIEN PLACÉS   |
| 8 | 1 | 0 | UN SEUL CHIFFRE CORRECT - MAL PLACÉ    |

# LE CODE

A TOI DE RETROUVER LE BON CODE POUR OUVRIR LE COFFRE-FORT !

4 5 8 TROIS CHIFFRES CORRECTS - UN BIEN PLACÉ

0 7 8 UN CHIFFRE CORRECT - MAL PLACÉ

6 8 4 DEUX CHIFFRES CORRECTS - UN BIEN PLACÉ

8 7 3 UN CHIFFRE CORRECT - BIEN PLACÉ

5 4 8 TROIS CHIFFRES CORRECTS - AUCUN BIEN PLACÉ

# LE CODE

A TOI DE RETROUVER LE BON CODE POUR OUVRIR LE COFFRE-FORT !

4 5 8 TROIS CHIFFRES CORRECTS - UN BIEN PLACÉ

0 7 8 UN CHIFFRE CORRECT - MAL PLACÉ

6 8 4 DEUX CHIFFRES CORRECTS - UN BIEN PLACÉ

8 7 3 UN CHIFFRE CORRECT - BIEN PLACÉ

5 4 8 TROIS CHIFFRES CORRECTS - AUCUN BIEN PLACÉ

# LE CODE

A TOI DE RETROUVER LE BON CODE POUR OUVRIR LE COFFRE-FORT !

4 5 8 TROIS CHIFFRES CORRECTS - UN BIEN PLACÉ

0 7 8 UN CHIFFRE CORRECT - MAL PLACÉ


6 8 4 DEUX CHIFFRES CORRECTS - UN BIEN PLACÉ

8 7 3 UN CHIFFRE CORRECT - BIEN PLACÉ

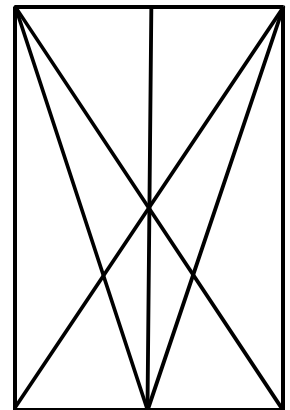
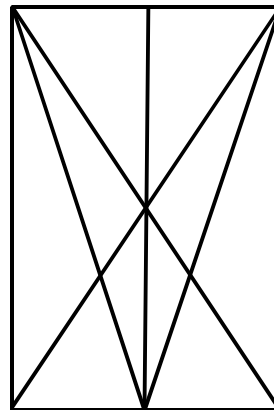
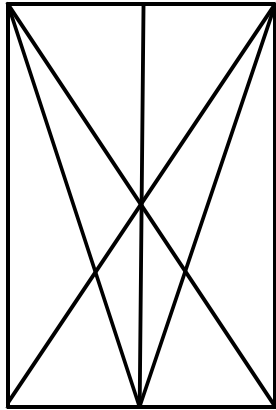
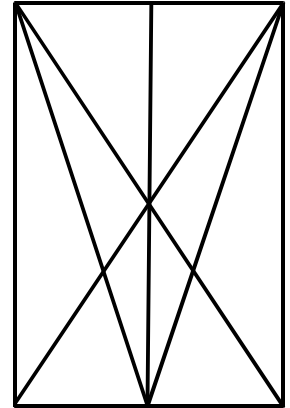
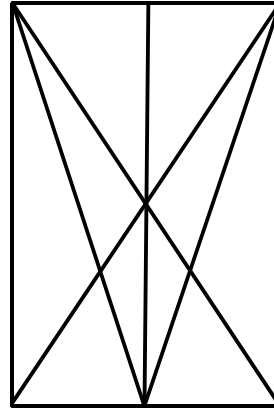
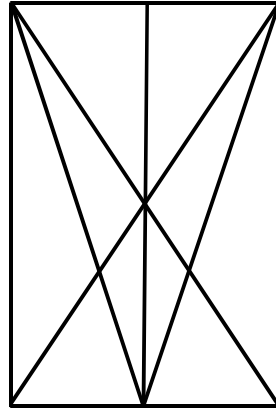
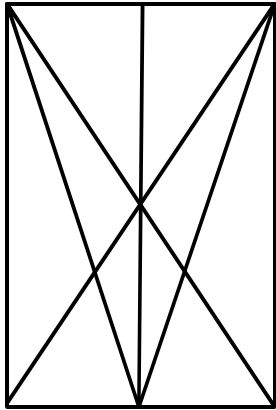
5 4 8 TROIS CHIFFRES CORRECTS - AUCUN BIEN PLACÉ

# L'OEIL DU GÉOMÈTRE

A TOI DE RETROUVER LE NOMBRE DE TRIANGLES QUI SE CACHENT ICI




J'AI TROUVÉ

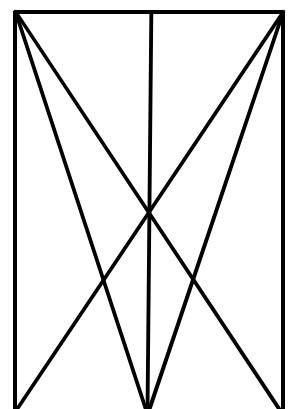
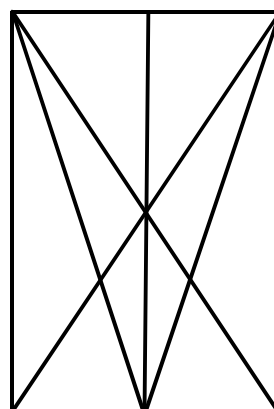
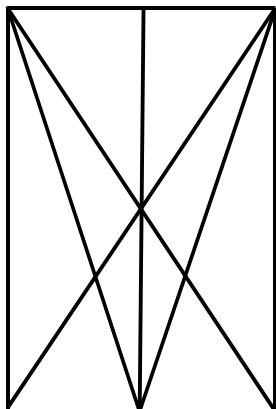
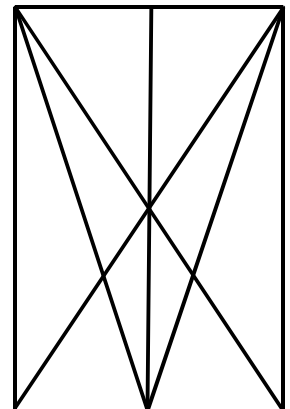
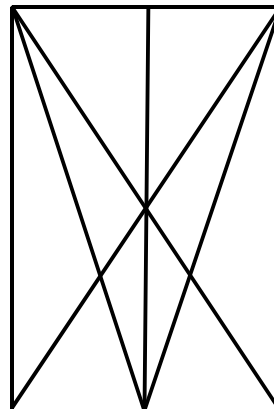
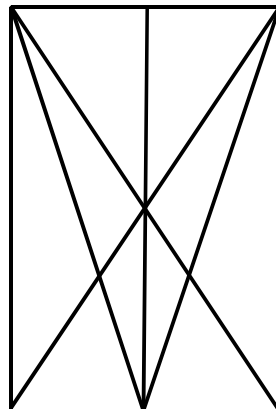
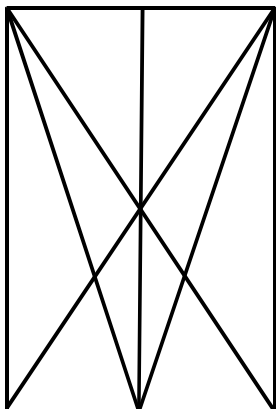


# L'OEIL DU GÉOMÈTRE

A TOI DE RETROUVER LE NOMBRE DE TRIANGLES QUI SE CACHENT ICI




J'AI TROUVÉ

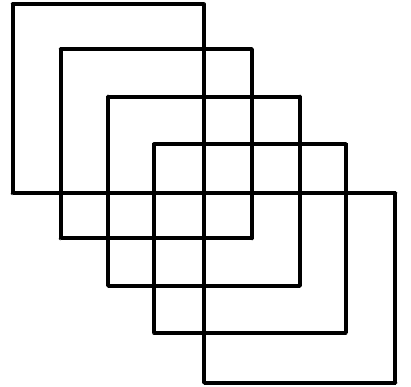
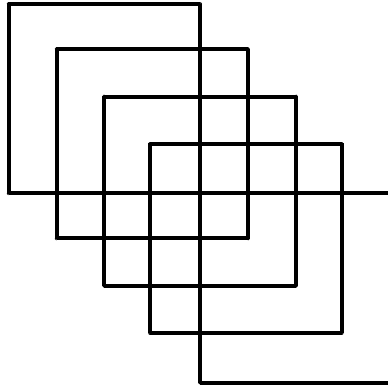
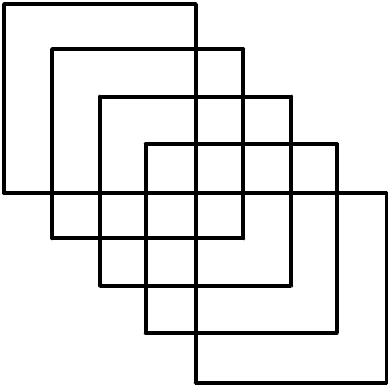
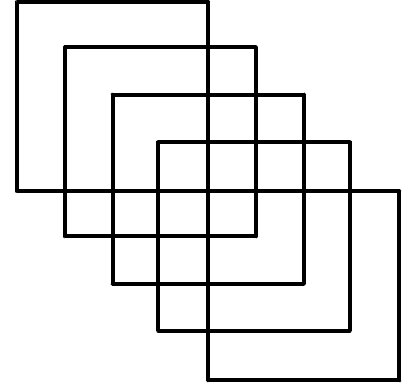
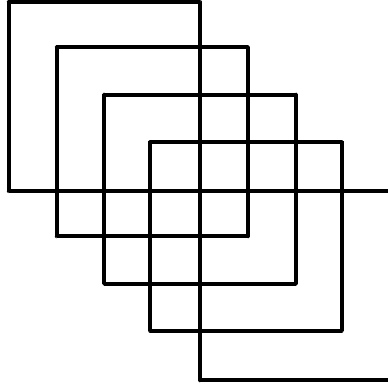


# L'OEIL DU GÉOMÈTRE

A TOI DE RETROUVER LE NOMBRE DE CARRÉS QUI SE CACHENT ICI




J'AI TROUVÉ

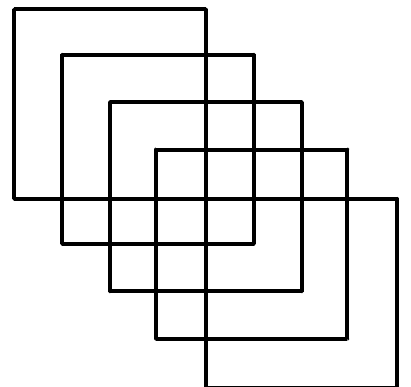
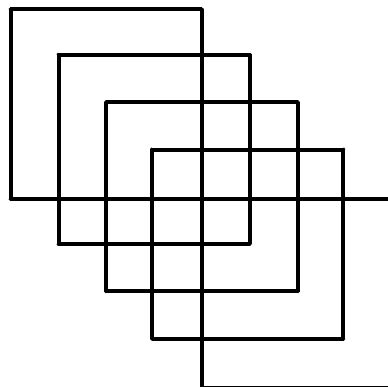
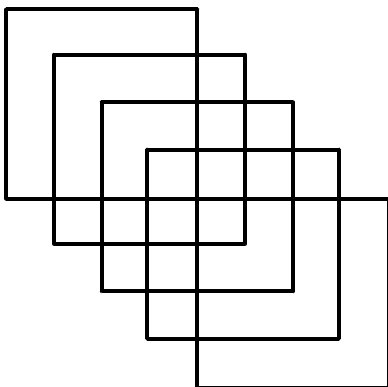
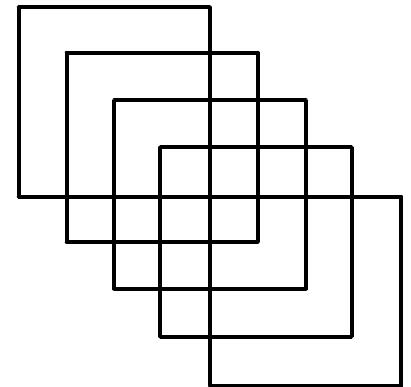
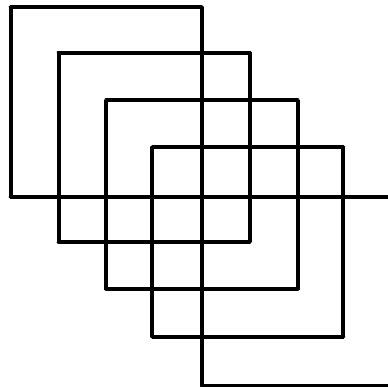


# L'OEIL DU GÉOMÈTRE

A TOI DE RETROUVER LE NOMBRE DE CARRÉS QUI SE CACHENT ICI




J'AI TROUVÉ

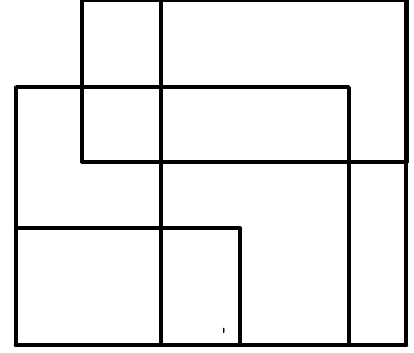
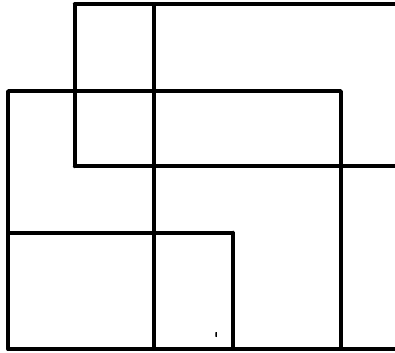
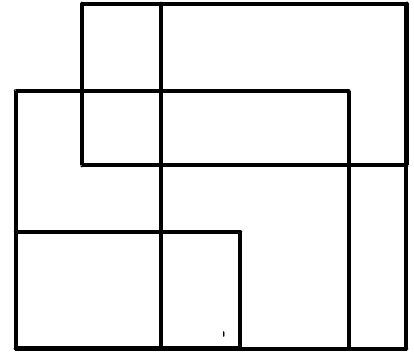
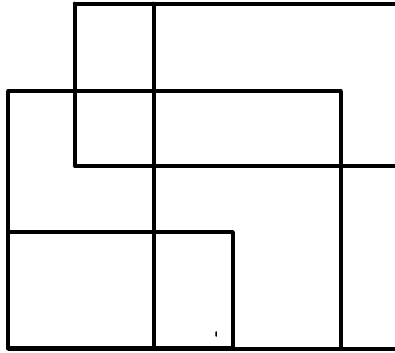
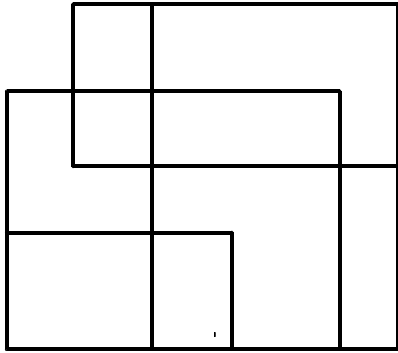





# L'OEIL DU GÉOMÈTRE A TOI DE RETROUVER LE NOMBRE DE RECTANGLES QUI SE CACHENT ICI



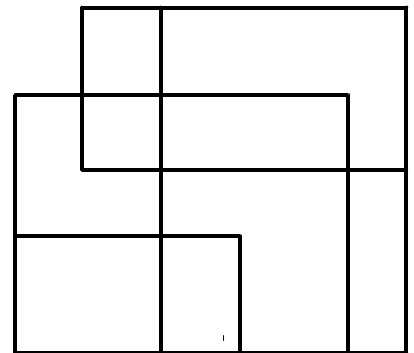
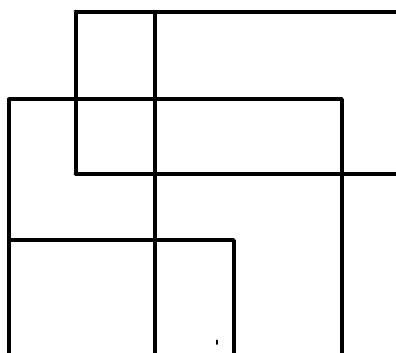
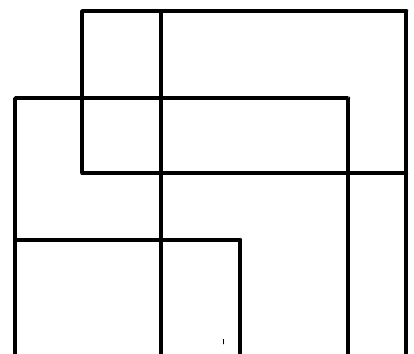
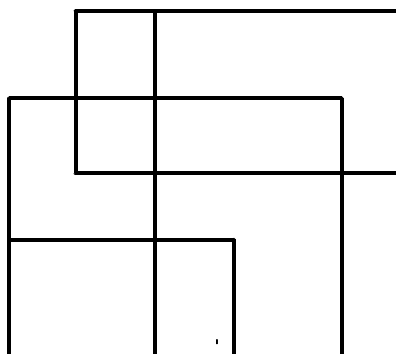
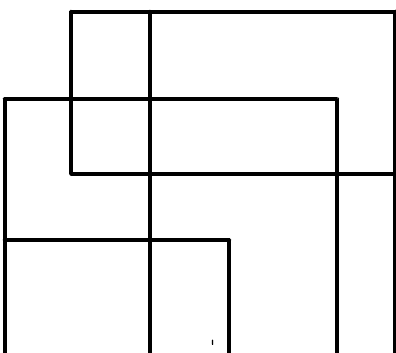
J'AI TROUVÉ



# L'OEIL DU GÉOMÈTRE A TOI DE RETROUVER LE NOMBRE DE RECTANGLES QUI SE CACHENT ICI

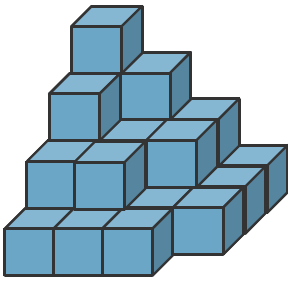


J'AI TROUVÉ



# LES CUBES !

COMBIEN SONT-ILS ?

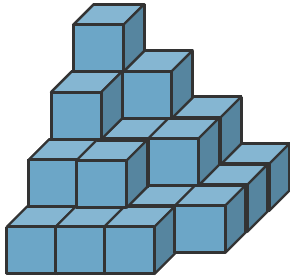


JE COMPTE...

J'AI COMPTÉ \_\_\_\_\_ CUBES.

# LES CUBES !

COMBIEN SONT-ILS ?

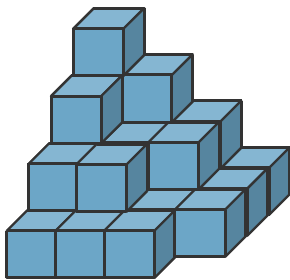


JE COMPTE...

J'AI COMPTÉ \_\_\_\_\_ CUBES.

# LES CUBES !

COMBIEN SONT-ILS ?

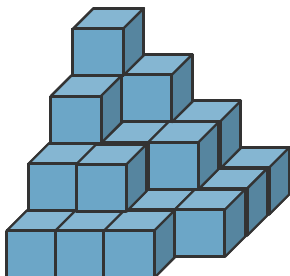


JE COMPTE...

J'AI COMPTÉ \_\_\_\_\_ CUBES.

# LES CUBES !

COMBIEN SONT-ILS ?

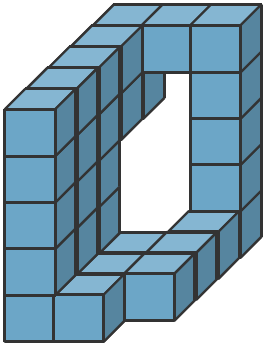


JE COMPTE...

J'AI COMPTÉ \_\_\_\_\_ CUBES.

# LES CUBES !

COMBIEN SONT-ILS ?

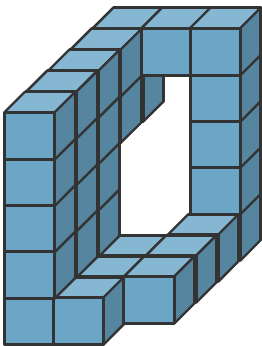


JE COMPTE...

J'AI COMPTÉ \_\_\_\_\_ CUBES.

# LES CUBES !

COMBIEN SONT-ILS ?

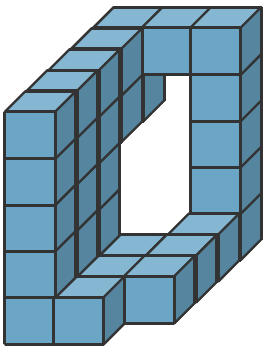


JE COMPTE...

J'AI COMPTÉ \_\_\_\_\_ CUBES.

# LES CUBES !

COMBIEN SONT-ILS ?

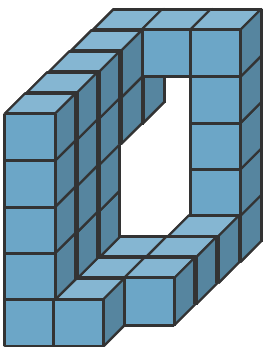


JE COMPTE...

J'AI COMPTÉ \_\_\_\_\_ CUBES.

# LES CUBES !

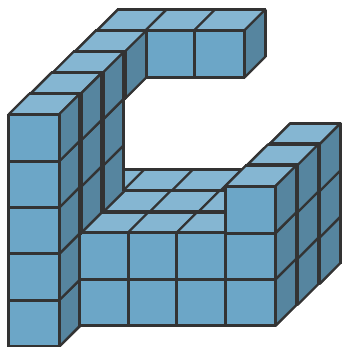
COMBIEN SONT-ILS ?



JE COMPTE...

J'AI COMPTÉ \_\_\_\_\_ CUBES.

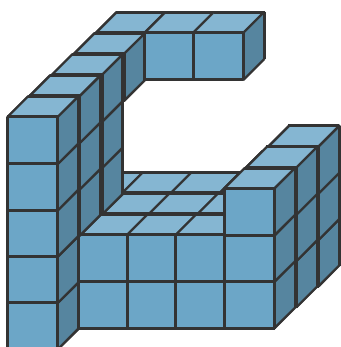
# LES CUBES ! COMBIEN SONT-ILS ?



JE COMPTE...

J'AI COMPTÉ \_\_\_\_\_ CUBES.

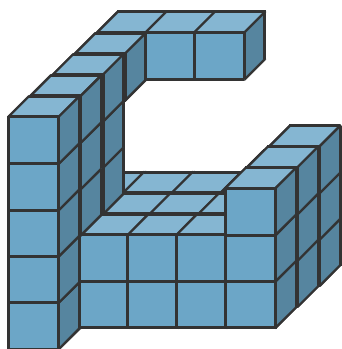
# LES CUBES ! COMBIEN SONT-ILS ?



JE COMPTE...

J'AI COMPTÉ \_\_\_\_\_ CUBES.

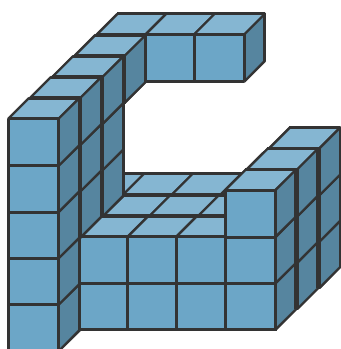
# LES CUBES ! COMBIEN SONT-ILS ?



JE COMPTE...

J'AI COMPTÉ \_\_\_\_\_ CUBES.

# LES CUBES ! COMBIEN SONT-ILS ?



JE COMPTE...

J'AI COMPTÉ \_\_\_\_\_ CUBES.