


Les propriétés géométriques


Est-ce que la figure est un polygone ?

(figure fermée, formée de plusieurs segments)


NON



OUI

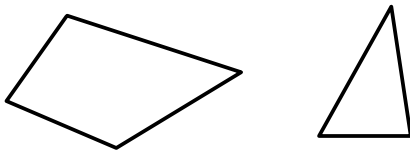


Combien de côtés possède la figure ?

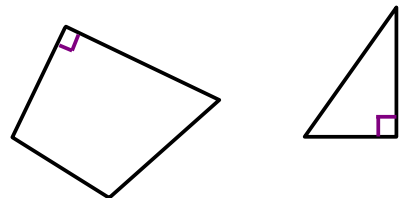


Possède-t-elle un angle droit ?

NON

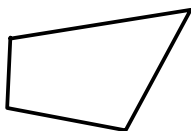


OUI

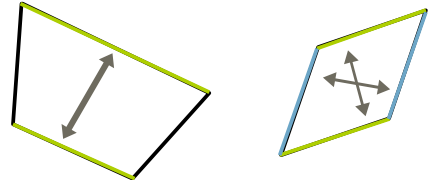


Possède-t-elle des côtés opposés parallèles ?

NON




OUI



Possède-t-elle des côtés égaux ?

NON



OUI

