





1


Voici les prix d'une même télévision dans différents magasins.  
Trouve celle qui est la moins chère après réduction.

**A**  1200 € - 65%

**B**  800 € - 14%

**C**  600 € - 5%

**D**  - 32% 900 €

**E**  - 50% 1080 €

**A**  $1200 : 100 = 12$        $12 \times 65 = 780$        $1200 - 780 = 420 \text{ €}$

**B**  $800 : 100 = 8$        $8 \times 14 = 112$        $800 - 112 = 688 \text{ €}$

**C**  $600 : 100 = 6$        $6 \times 5 = 30$        $600 - 30 = 570 \text{ €}$

**D**  $900 : 100 = 9$        $9 \times 32 = 288$        $900 - 288 = 612 \text{ €}$

**E**  $1080 : 2 = 540$

**Choix** La télévision la moins chère est celle du magasin A.