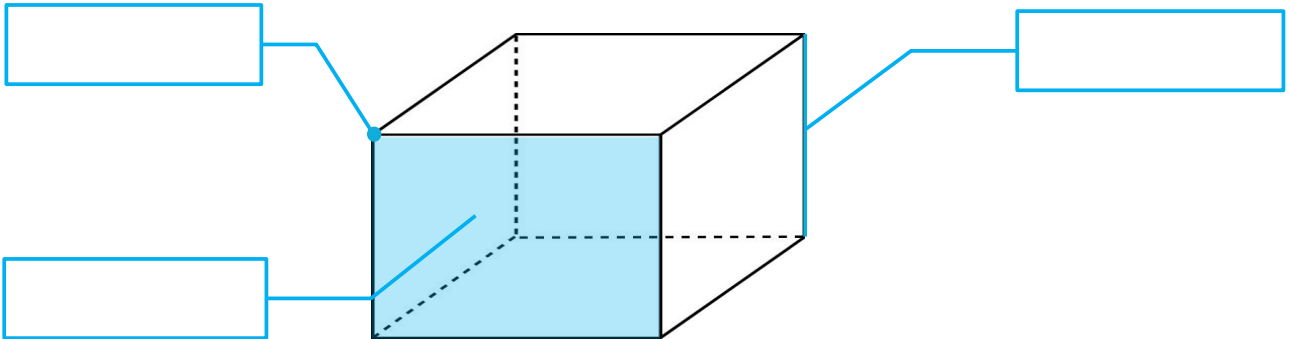


1

Complète le vocabulaire d'un solide.



2

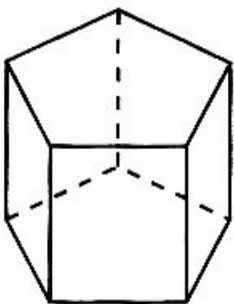
Pour chaque figure, remplis la carte d'identité.

FIGURE A

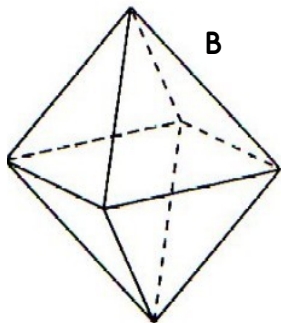
Famille :  polyèdre  non-polyèdre  
 Nombre de faces : \_\_\_\_\_  
 Forme des faces : \_\_\_\_\_  
 Nombre d'arêtes : \_\_\_\_\_  
 Nombre de sommets : \_\_\_\_\_

FIGURE B

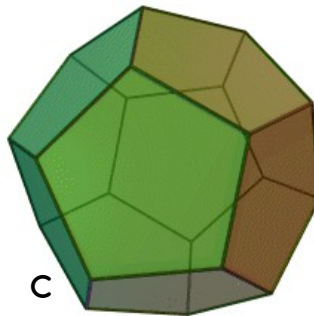
Famille :  polyèdre  non-polyèdre  
 Nombre de faces : \_\_\_\_\_  
 Forme des faces : \_\_\_\_\_  
 Nombre d'arêtes : \_\_\_\_\_  
 Nombre de sommets : \_\_\_\_\_



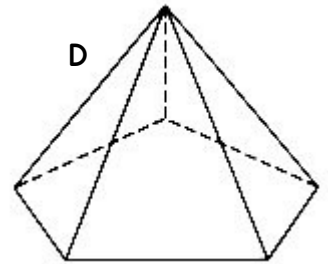
A



B



C



D

FIGURE C

Famille :  polyèdre  non-polyèdre  
 Nombre de faces : \_\_\_\_\_  
 Forme des faces : \_\_\_\_\_  
 Nombre d'arêtes : \_\_\_\_\_  
 Nombre de sommets : \_\_\_\_\_

FIGURE D

Famille :  polyèdre  non-polyèdre  
 Nombre de faces : \_\_\_\_\_  
 Forme des faces : \_\_\_\_\_  
 Nombre d'arêtes : \_\_\_\_\_  
 Nombre de sommets : \_\_\_\_\_