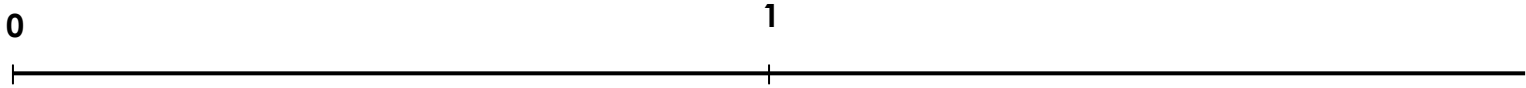


1

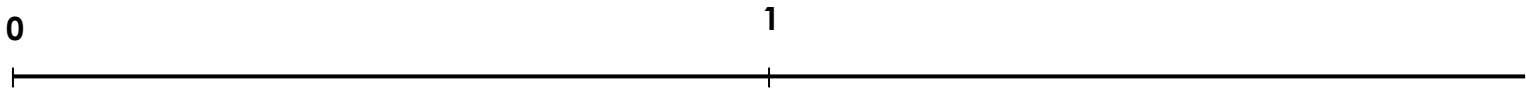
Place les fractions suivantes sur la droite graduée en dessous.

*Aide : Partage l'unité selon le dénominateur indiqué.*

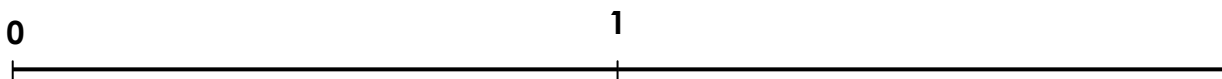
$$\frac{1}{2} \quad \frac{3}{2} \quad \frac{2}{2} \quad \frac{4}{2}$$



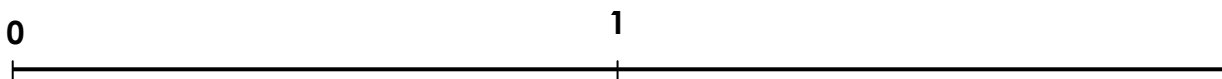
$$\frac{1}{10} \quad \frac{15}{10} \quad \frac{10}{10} \quad \frac{8}{10} \quad \frac{12}{10} \quad \frac{20}{10}$$



$$\frac{1}{8} \quad \frac{4}{8} \quad \frac{12}{8} \quad \frac{8}{8} \quad \frac{16}{8} \quad \frac{9}{8}$$



$$\frac{1}{4} \quad \frac{4}{4} \quad \frac{2}{4} \quad \frac{8}{4} \quad \frac{5}{4} \quad \frac{7}{4}$$



2

Place les fractions suivantes sur la droite graduée en dessous.

*Aide : Partage l'unité selon le dénominateur indiqué.*

1

$\frac{1}{2}$     $\frac{3}{2}$     $\frac{2}{2}$     $\frac{4}{2}$     $\frac{1}{10}$     $\frac{15}{10}$     $\frac{10}{10}$     $\frac{8}{10}$     $\frac{12}{10}$     $\frac{20}{10}$

0

1



$\frac{1}{4}$     $\frac{4}{4}$     $\frac{2}{4}$     $\frac{8}{4}$     $\frac{5}{4}$     $\frac{7}{4}$     $\frac{1}{8}$     $\frac{4}{8}$     $\frac{12}{8}$     $\frac{8}{8}$     $\frac{16}{8}$     $\frac{9}{8}$

0

1

