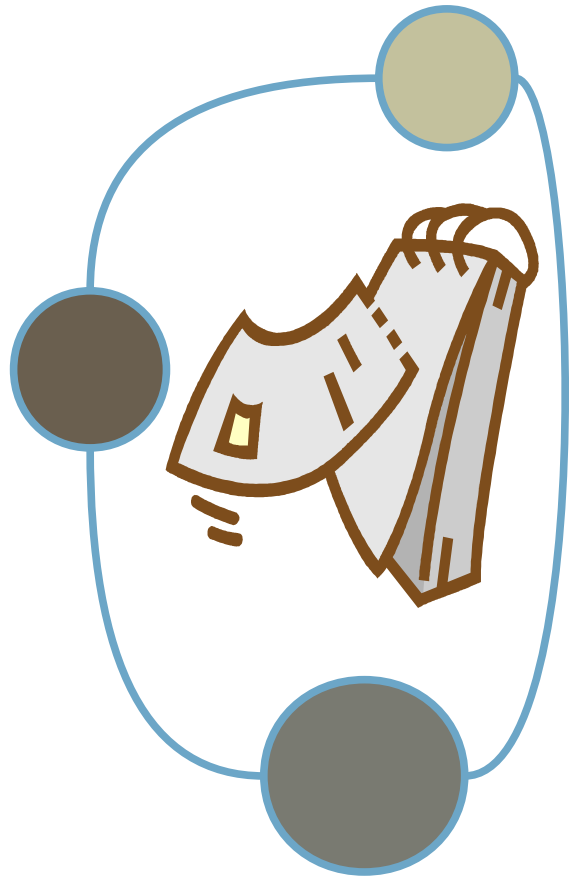


QUELLE QUESTION

J'ai acheté 5 roses à 3€ l'une et 8 tulipes à 1€ l'une.

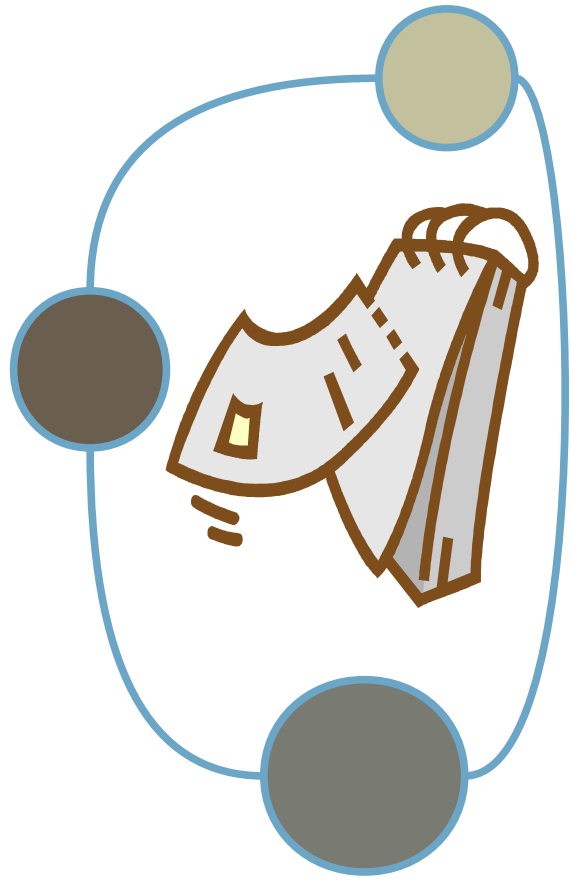
Réponse :
Quel est le prix de ces fleurs ?



QUELLE QUESTION

La semaine dernière, Fanny a joué aux billes. Elle en avait 24 au début de la partie. Pour commencer, elle en a perdu 8 puis elle en a ensuite gagné 15.

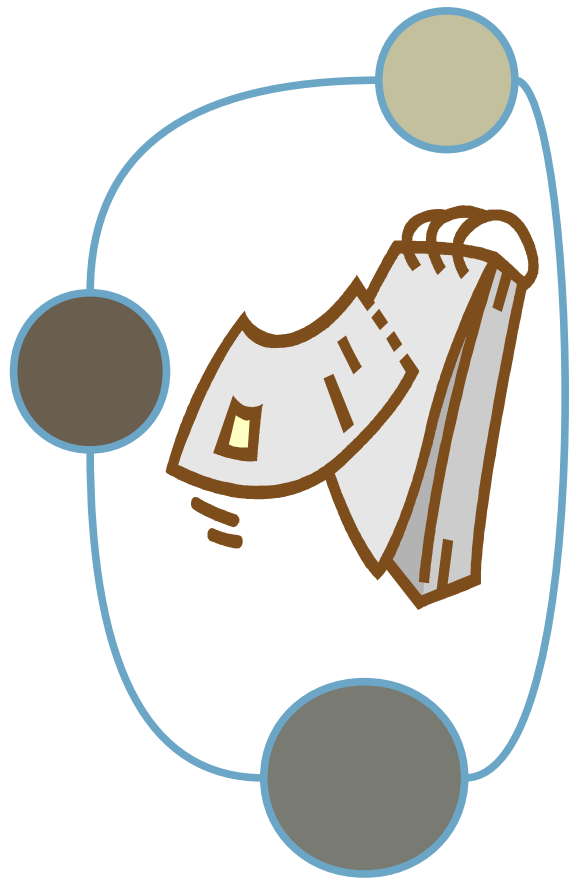
Réponse :
Combien de billes Fanny possède à la fin de la partie ?



QUELLE QUESTION

Mme Durand a commencé à regarder la télévision à 19h40 et s'est arrêtée à 22h15.

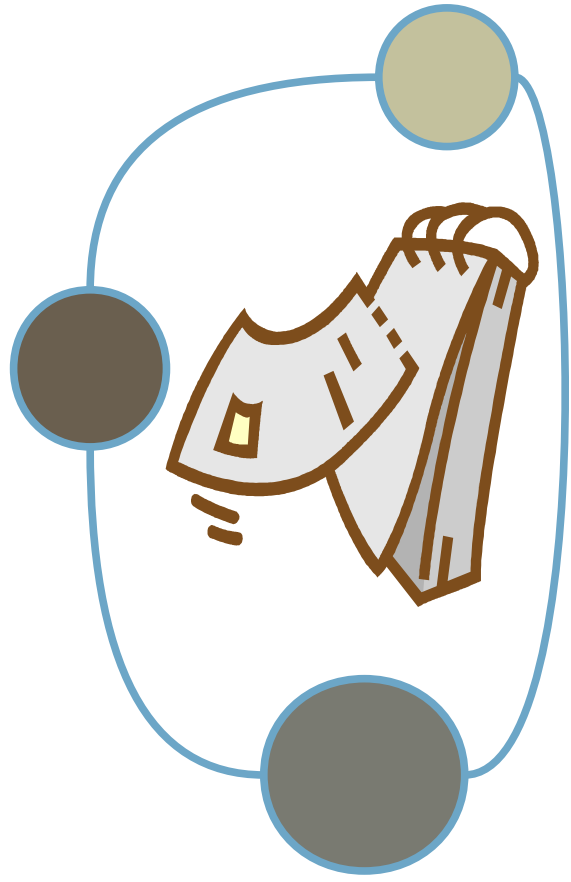
Réponse :
Combien de temps Mme Durand a-t-elle regardé la télévision ?



QUELLE QUESTION

Marc a acheté 12 œufs qui pèsent chacun 50 grammes.

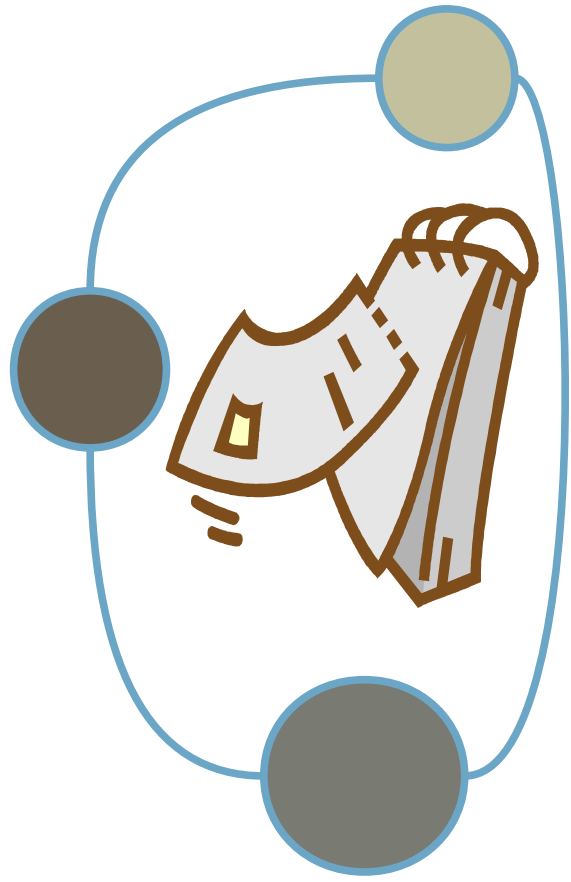
Réponse :
Quel est le poids des œufs ?



QUELLE QUESTION

Après de longues années de recherche, 3 pirates ont trouvé un immense trésor de 169 pièces d'or qu'ils veulent se partager.

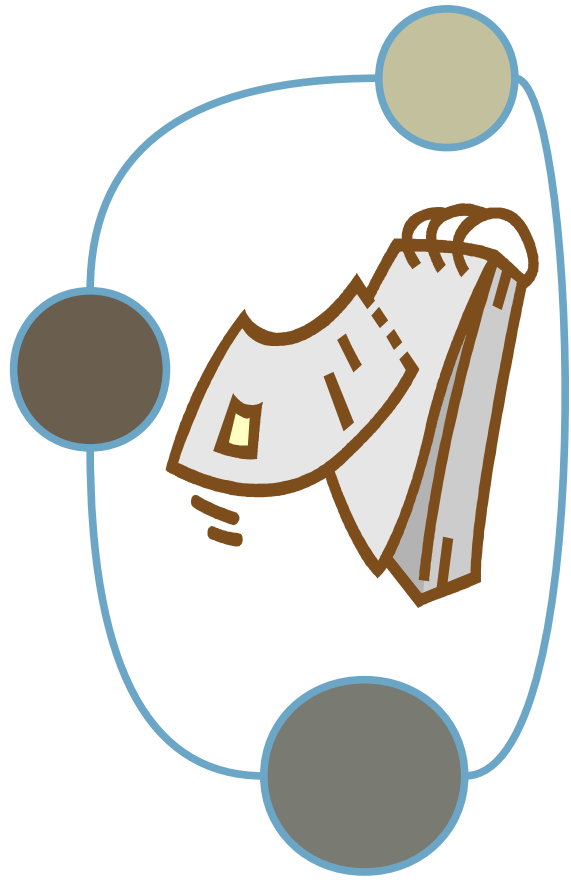
Réponse :
Combien de pièces d'or aura
chaque pirate ?



QUELLE QUESTION

M. Walter a préparé 5 exercices pour l'évaluation de mathématiques des CM2. Chaque exercice doit durer 10 minutes.

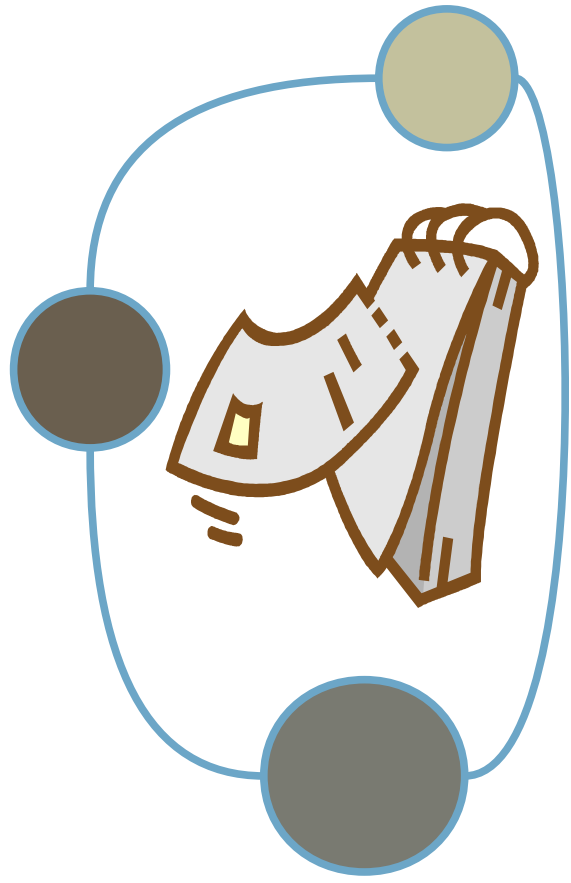
Réponse :
Combien de temps durera l'évaluation de mathématiques ?



QUELLE QUESTION

Anouk commence une collection de timbres. Elle en a déjà 94. Elle veut les ranger dans un grand album de 120 places.

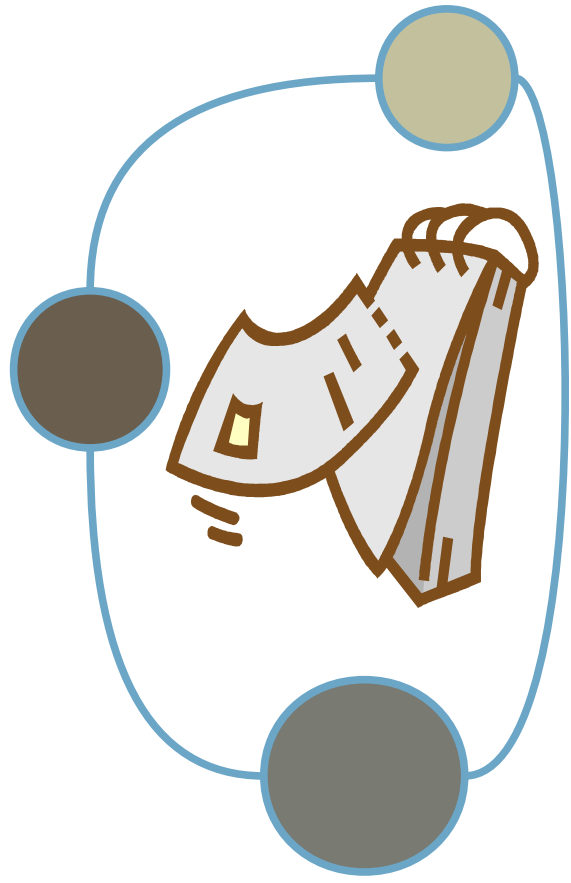
Réponse :
Combien de places restera-t-il une fois qu'elle aura collé ses timbres ?



QUELLE QUESTION

Julien mesure 1m25cm et son frère mesure 30cm de plus que lui.

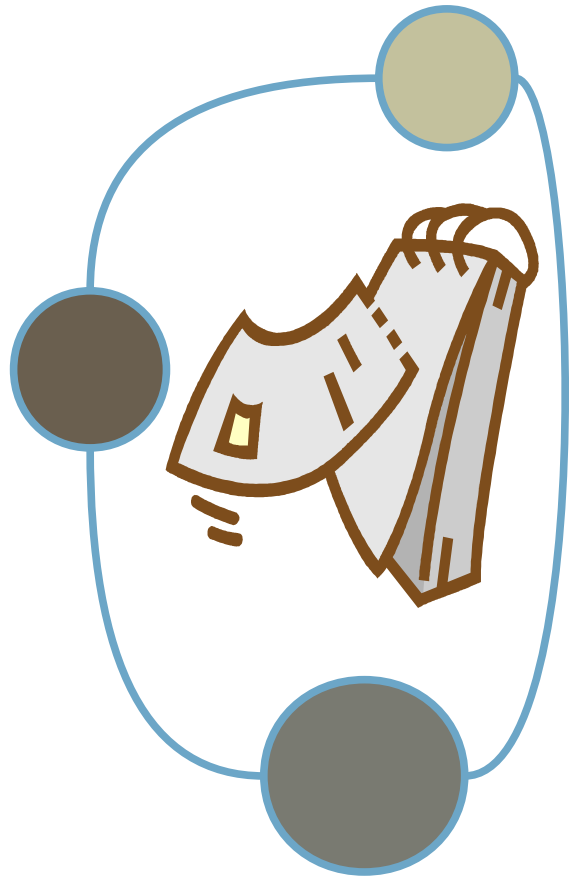
Réponse :
Quelle est la taille du frère de Julien ?



QUELLE QUESTION

Dans la famille Durand, Amélie, l'ainée, vient de fêter ses 32 ans alors que sa petite soeur n'a que 18 ans.

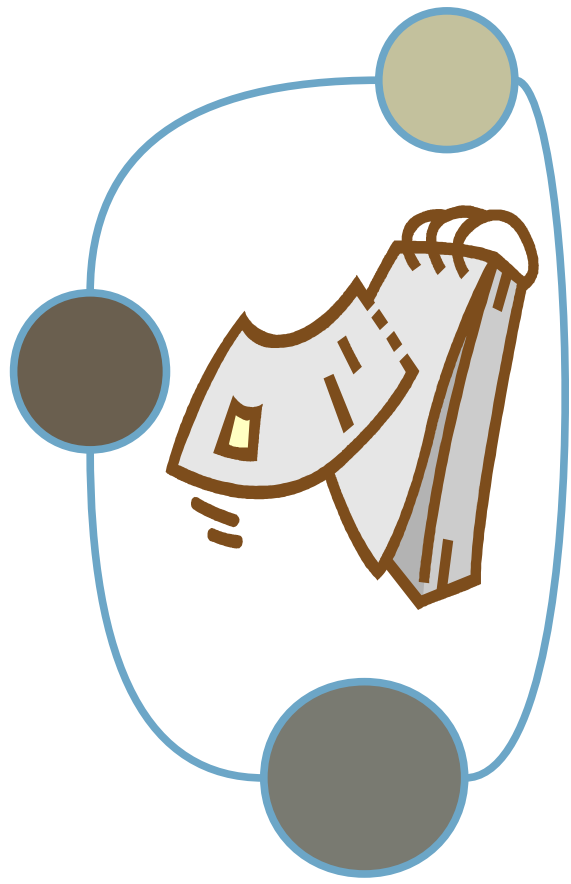
Réponse :
Quelle est la différence d'âge des 2
soeurs ?



QUELLE QUESTION

135 élèves et 16 maîtres partent en voyage.

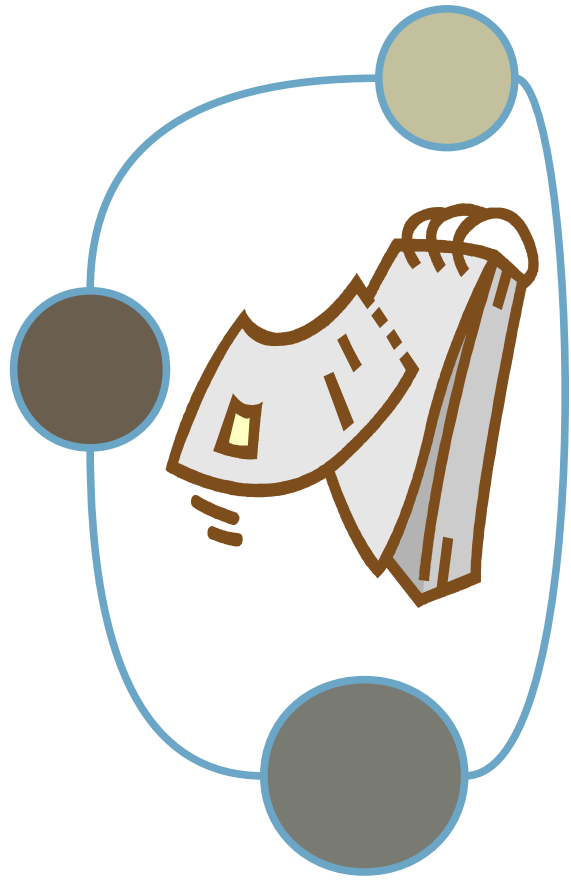
Réponse :
Combien de personnes en tout partent en voyage ?



QUELLE QUESTION

L'école a commandé un lecteur CD. On a versé 60 € à la commande et 129€ à la livraison.

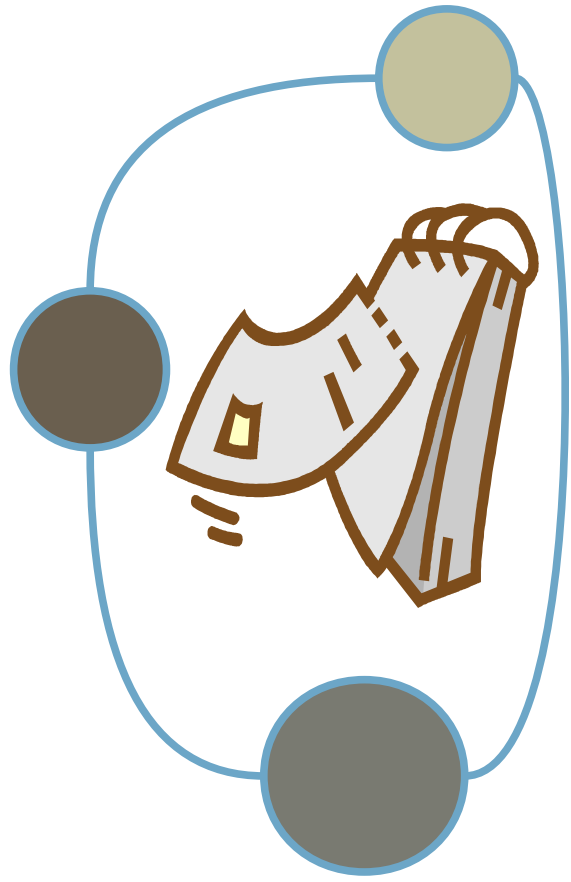
Réponse :
Quel est le prix du lecteur CD ?



QUELLE QUESTION

Un stade de football peut contenir 8000 personnes. Pour le dernier match, il y avait 4256 spectateurs.

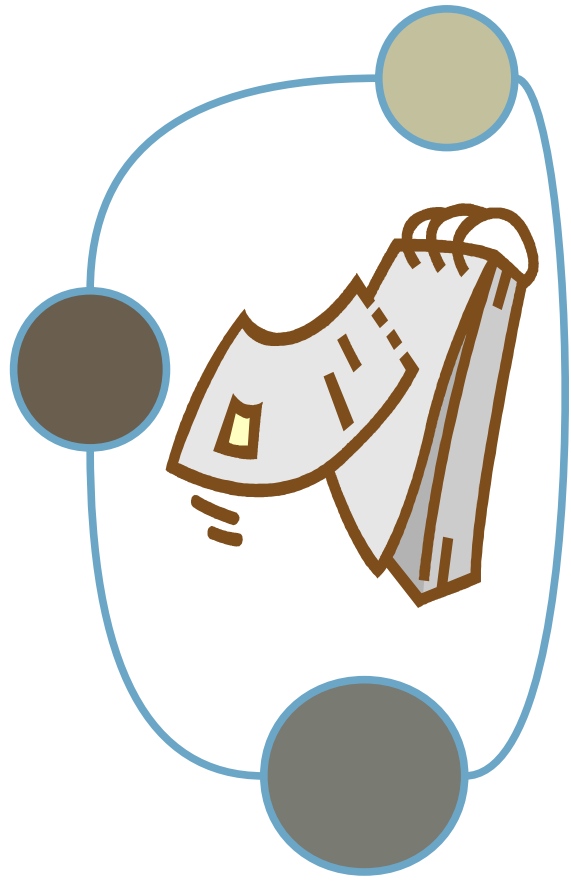
Réponse :
Combien restait-il de places libres ?



QUELLE QUESTION

Le patron de la station service a fait venir, lundi dernier, 5 000 litres d'essence pour ses clients. Trois jours après, il constate qu'il lui reste 890 litres.

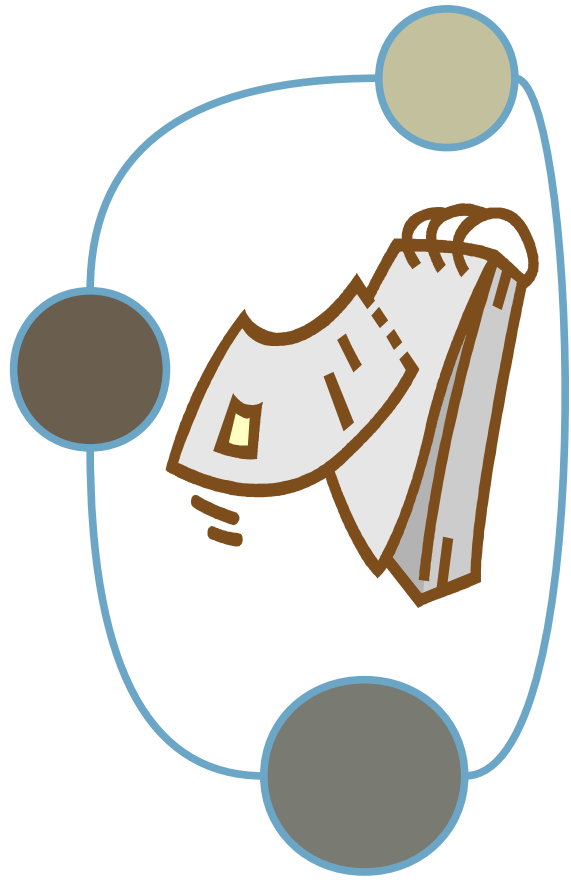
Réponse :
Quelle quantité d'essence a été achetée depuis lundi ?



QUELLE QUESTION

Le directeur d'une école a reçu 2500 € de la mairie pour acheter des fournitures scolaires. Il commande pour 595 € de livres et 1 240 € de matériel pour le travail manuel.

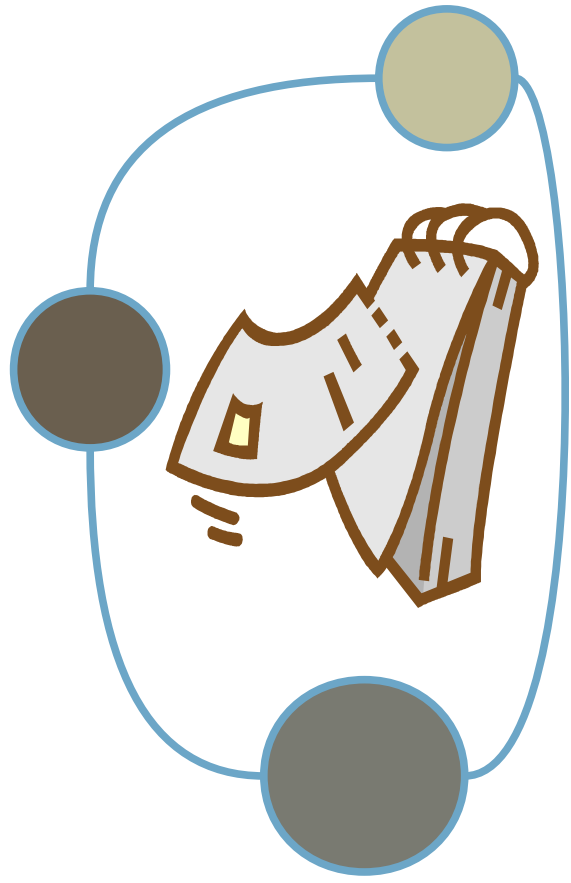
Réponse :
Quelle somme d'argent reste-t-il à l'école ?



QUELLE QUESTION

La navette spatiale a parcouru 18 fois le tour de la Terre qui mesure 40 000 km.

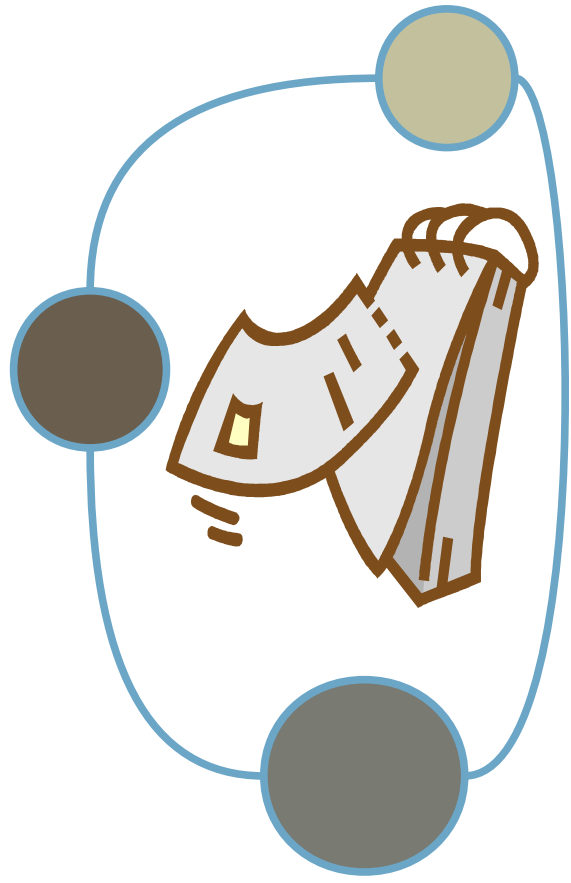
Réponse :
Quelle distance la navette a-t-elle parcourue en tout ?



QUELLE QUESTION

Au Salon de la Nature, Pascal a compté 63 canaris, 48 perruches 12 perroquets et 28 poissons rouges.

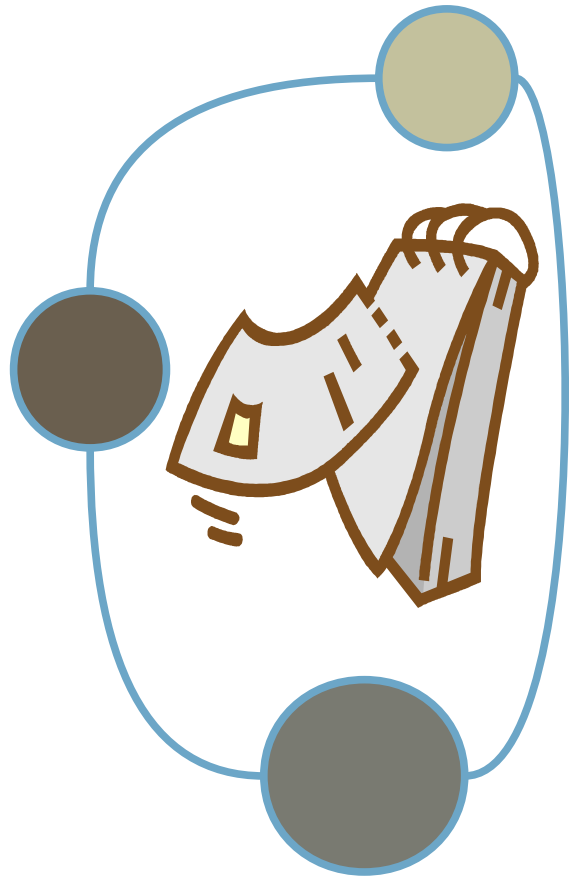
Réponse :
Combien y a-t-il d'oiseaux au salon de la nature ?



QUELLE QUESTION

Dans un filet, il y a 3 kg d'oranges. J'achète 5 filets.

Réponse :
Combien ai-je acheté de kilos d'oranges ?



QUELLE QUESTION

Avec les 25€ de ma tirelire, j'ai acheté trois voitures de collection à 7€ l'une.

Réponse :

Combien d'argent me reste-t-il ?

Combien coûtent les 3 voitures ?

Ai-je assez d'argent pour acheter les

3 voitures ?