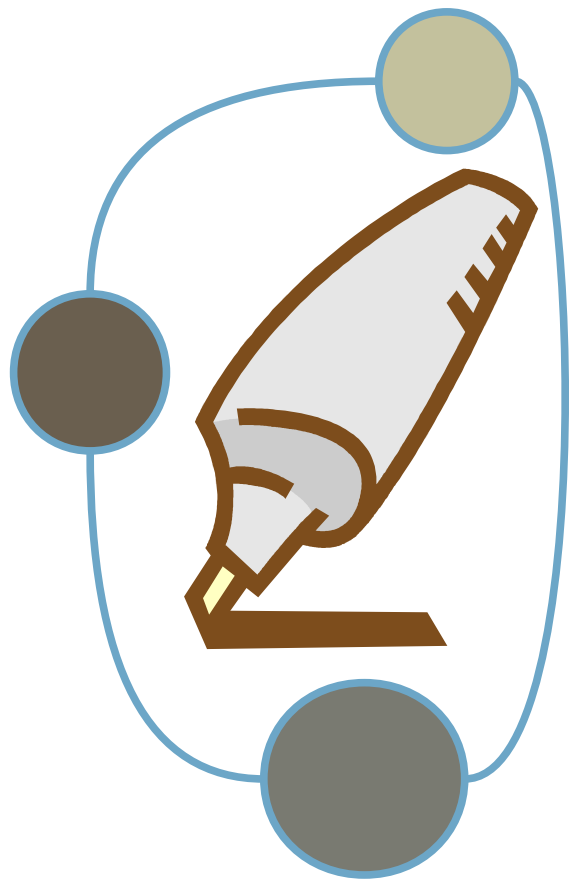


# Info importante

Monsieur et Madame Pink vont au zoo avec leurs enfants Élodie et Arnaud. Ils partent de chez eux à 9h30. L'entrée du zoo coûte 6 € pour un adulte et 4 € pour un enfant. Ils sont de retour chez eux à 16h. Combien de temps sont-ils partis de chez eux ?

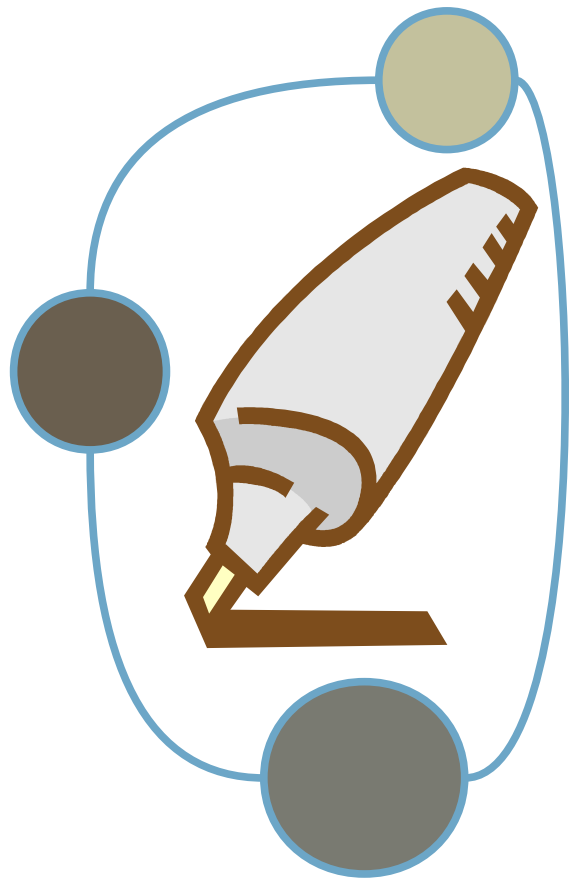


# Info importante

Nathalie pesait 31 kg, le 10 avril 1995.

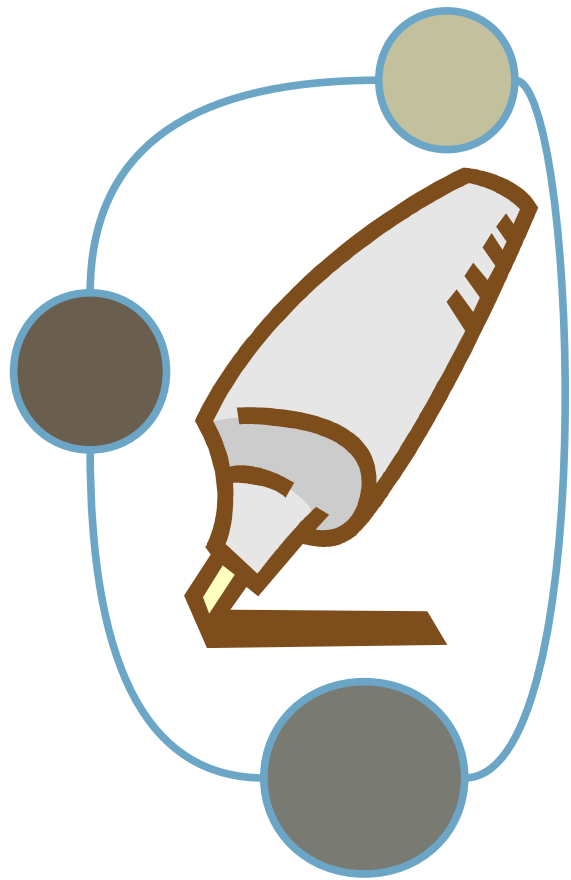
Un an plus tard, elle pèse 36 kg.

Calcule l'augmentation de poids survenue en 1 année.



# Info importante

Brigitte achète 3 boîtes de 12 oeufs à 2 € la douzaine le 11 avril 2006. Combien d'oeufs a-t-elle achetés ?

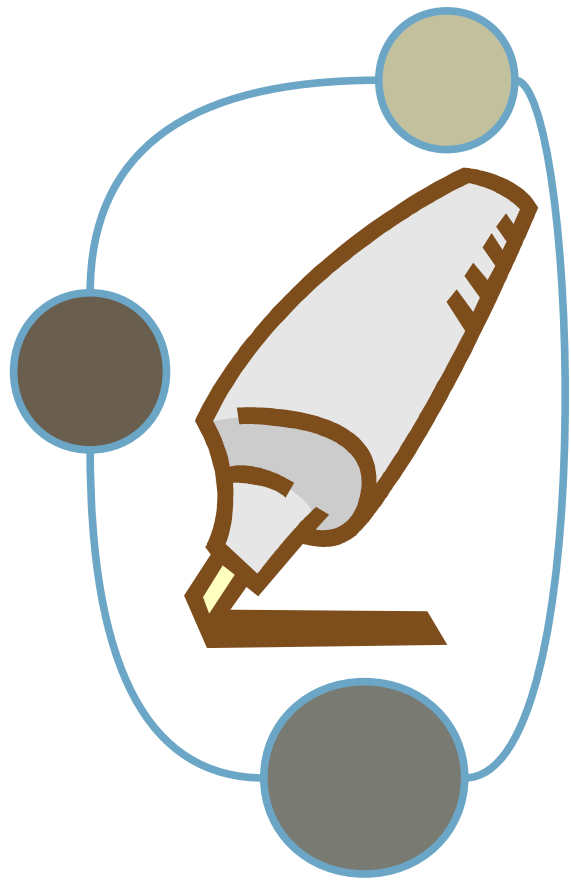


# Info importante

Un T.G.V. quitte Paris à 16h15 et arrive à Lyon à 18h30. Il peut accueillir 300 passagers.

194 personnes se trouvent à son bord.

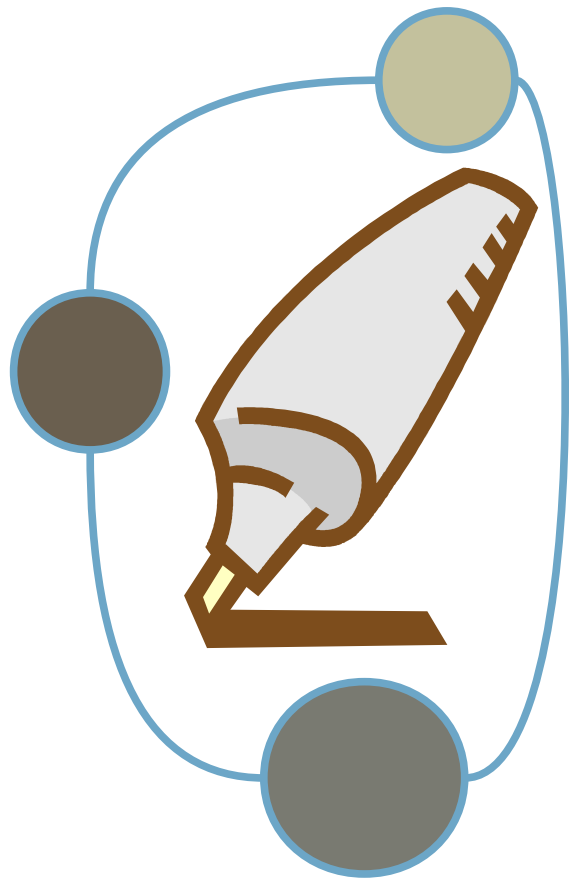
***Combien de places sont restées vides ?***



# Info importante

15 étourneaux sont sur un arbre devant le numéro 2 de la rue des Bergeronnettes. Au moment où Bruno, petit garçon de 6 ans, lève la tête, 9 étourneaux s'envolent.

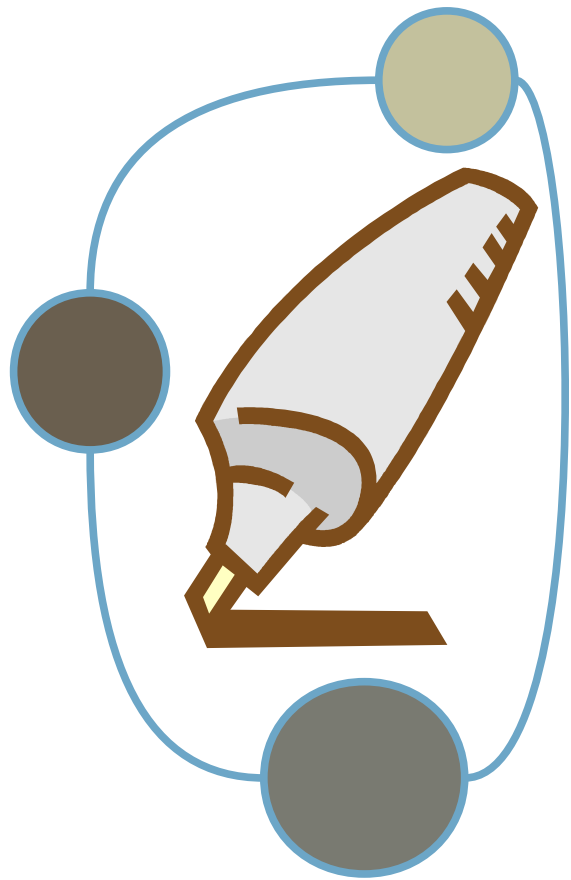
Combien y a-t-il d'étourneaux sur l'arbre ?



# Info importante

Pour construire un mur de clôture autour de sa maison, M. Salmain engage un maçon qu'il paie 19 € de l'heure. Cette clôture mesurera 18,50 m de long et 1,80 m de haut. Le maçon va travailler 3 heures.

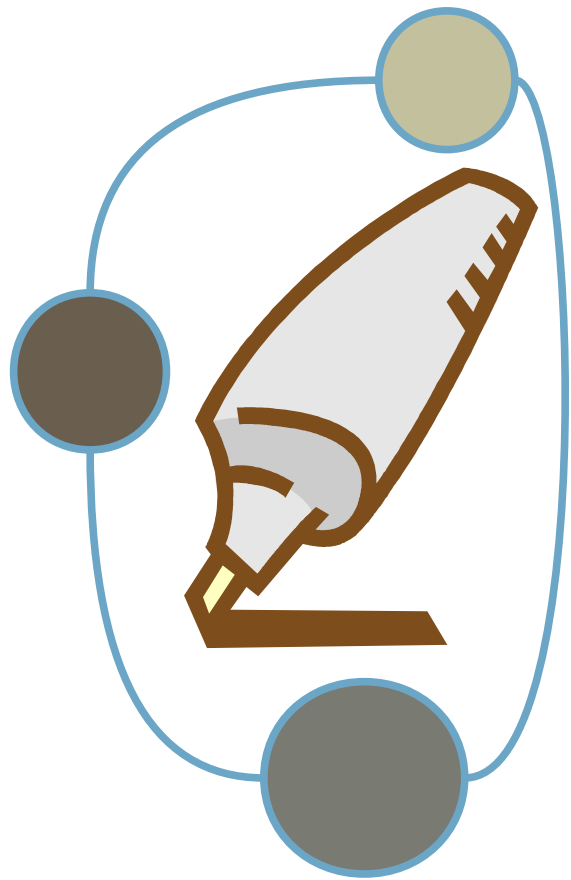
***Combien va payer M. Salmain ?***



# Info importante

Pour composer un bouquet, madame Grima utilise 6 roses, 6 oeillets et 6 iris. Les roses coûtent 3 euros, les oeillets coûtent 2 euros et les iris coûtent 5 euros.

Combien de fleurs composent ce bouquet ?

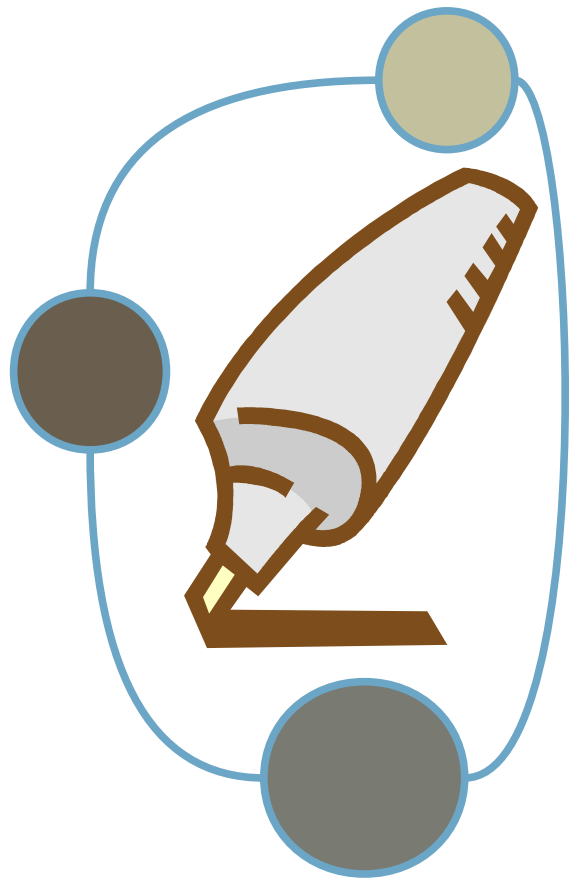


# Info importante

Élodie et Arnaud ont trouvé, dans leur grenier, des jouets qu'ils n'utilisent plus. Ils se rendent à la brocante du village pour les vendre. Ils parviennent à vendre pour **64 €** un train électrique de 7 wagons ; pour **22 €** une poupée de 45 centimètres et, pour **14 €**, un lot de 3 jeux de société.

***Combien ont-ils gagné ?***

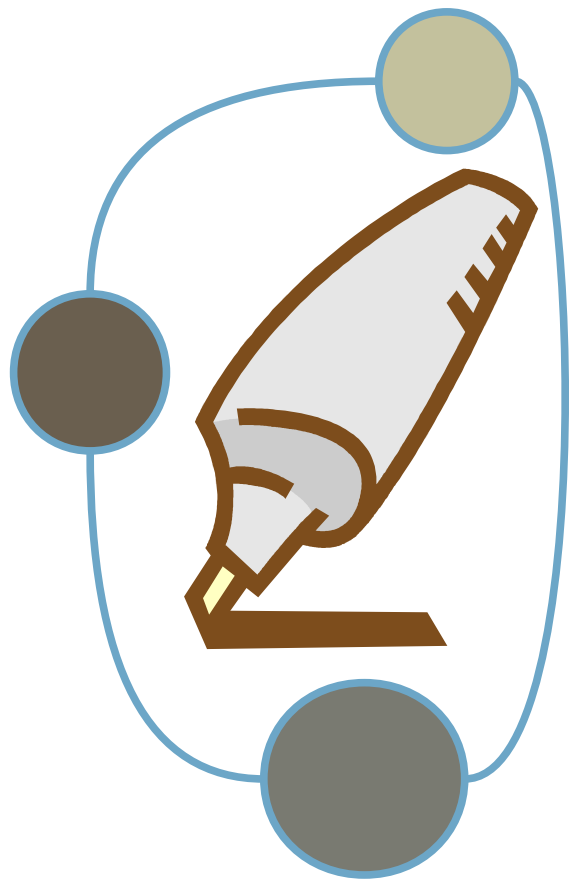




# Info importante

Au supermarché, papa a acheté **12** bouteilles d'eau. Une bouteille contient 2 litres. En rangeant les bouteilles, vers 14 heures, il en a cassé **2**.

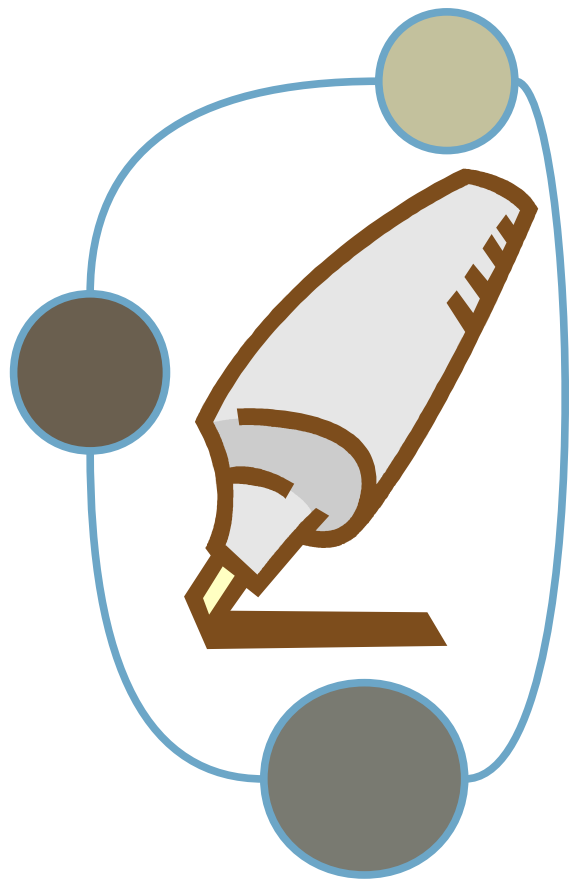
Combien de bouteilles papa a-t-il maintenant ?



# Info importante

Julie qui a 8 ans mesure **107 cm** et sa sœur qui a 12 ans, rousse aux yeux bleus mesure **12 cm** de plus.

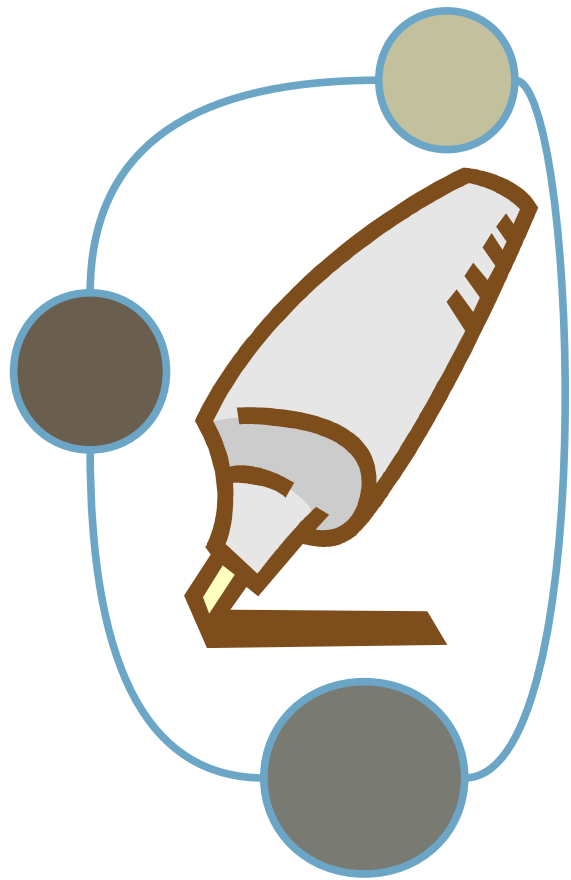
Combien mesure la sœur de Julie ?



# Info importante

Un T.G.V. quitte Paris à 16h15 et arrive à Lyon à 18h30. Il peut accueillir 400 passagers, 194 personnes se trouvent à son bord.

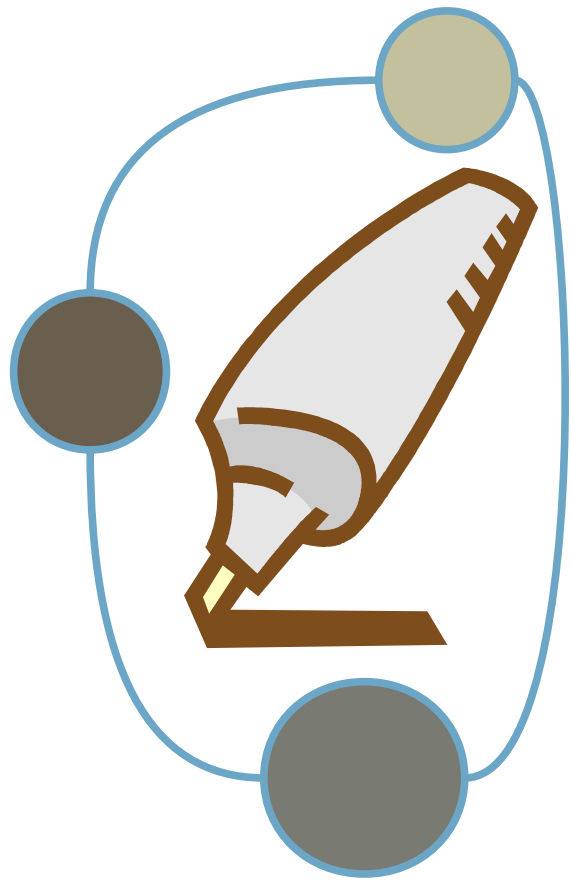
Combien de places sont restées vides ?



# Info importante

Pour le spectacle du 20 décembre, on a vendu 40 places à 18 € et 50 places à 12 €.

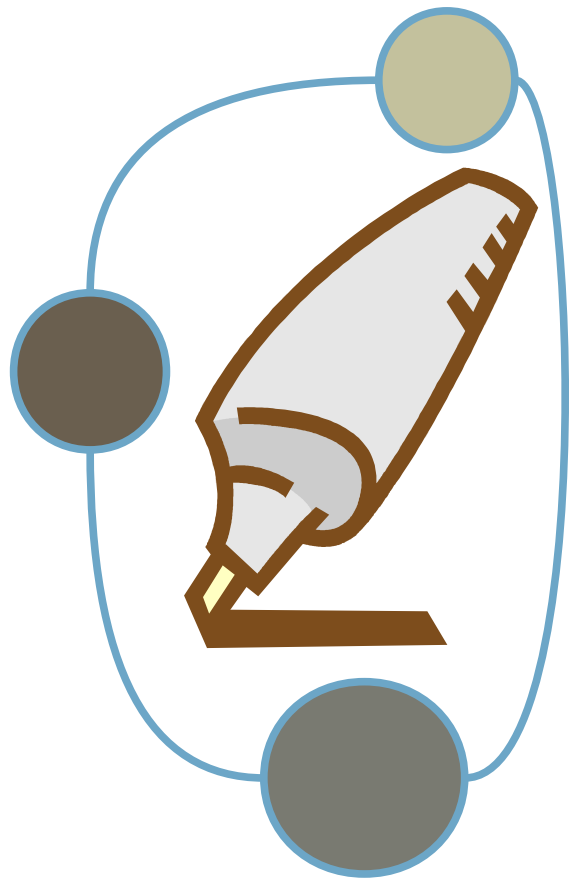
Quel est le nombre de places vendues pour le spectacle ?



# Info importante

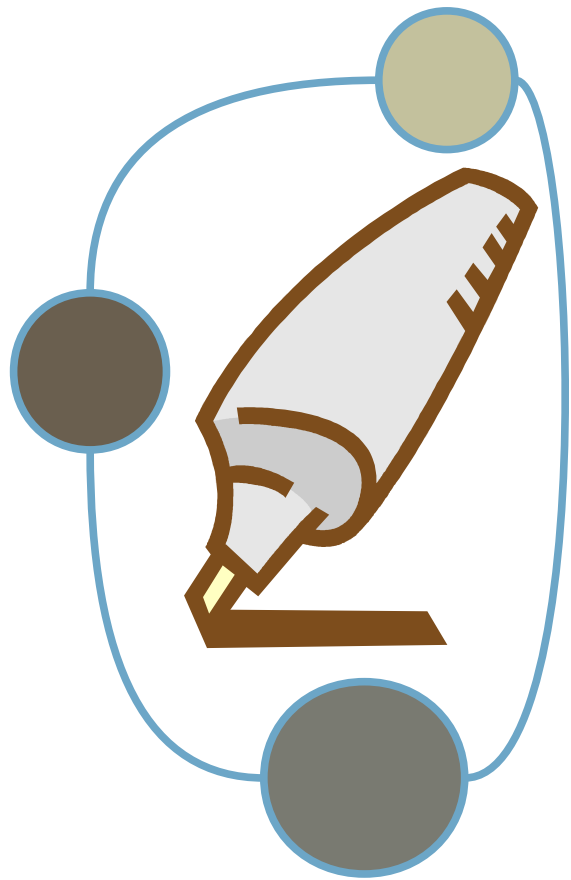
Si j'achète 5 roses à 10€ et  
12 tulipes à 8€.

Combien ai-je de fleurs dans mon bouquet ?



# Info importante

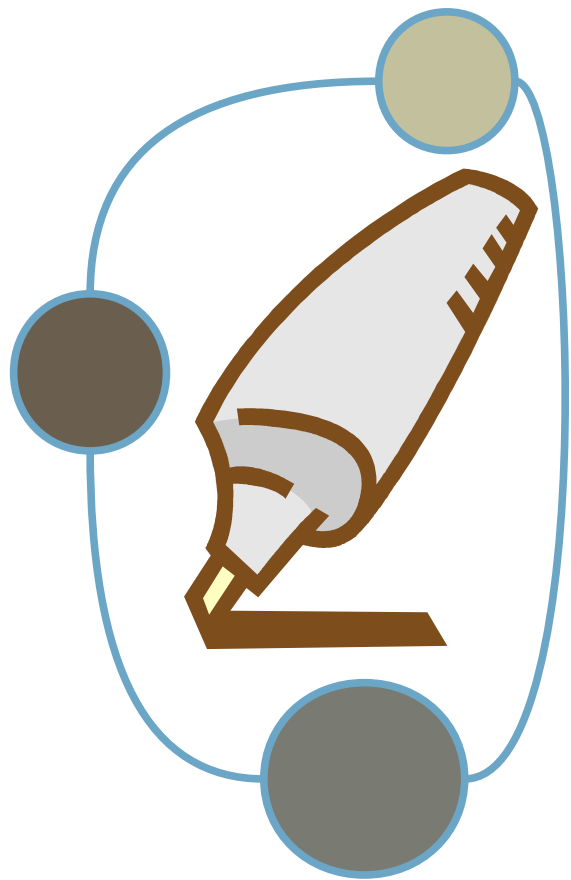
Mme Durand a reçu pour la St Valentin une boîte de chocolats au lait contenant 65 chocolats noirs et 27 chocolats blancs. Cette boîte a couté 50 euros. Combien y -t-il de chocolats dans la boîte ?



# Info importante

Dans sa tirelire, Marc a 2 billets de 10 euros, 3 billets de 20 euros, 4 pièces de 1 euro et 8 pièces de 2 euros.

Combien a-t-il de pièces dans sa tirelire ?



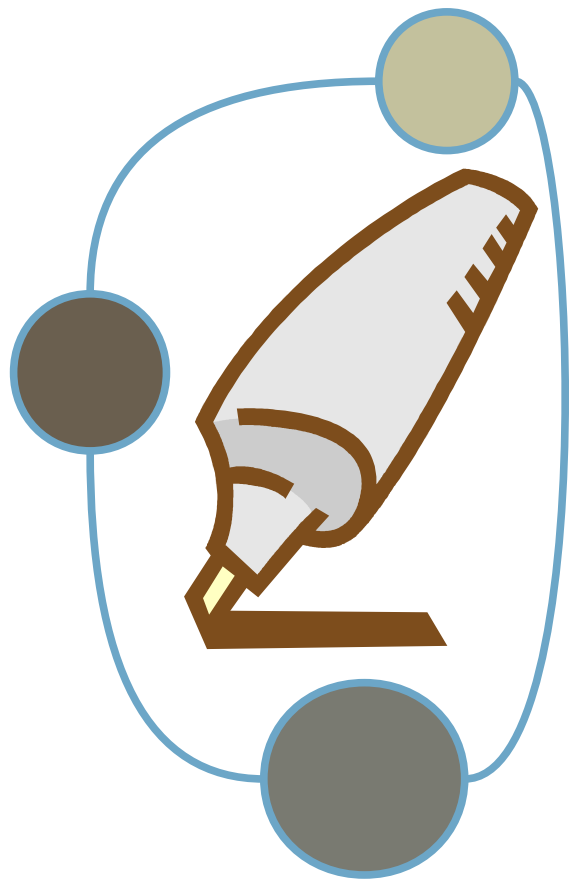
# Info importante

C'est le grand soir. Nous sommes le samedi 24 mai et c'est la grande finale de la coupe de France de football.

65 000 personnes sont rassemblées dans le stade et crient lorsque le premier but est marqué. Ils chantent encore plus lorsque les deux buts suivants sont inscrits en 5 min. C'est la joie dans le stade à la dernière minute pour

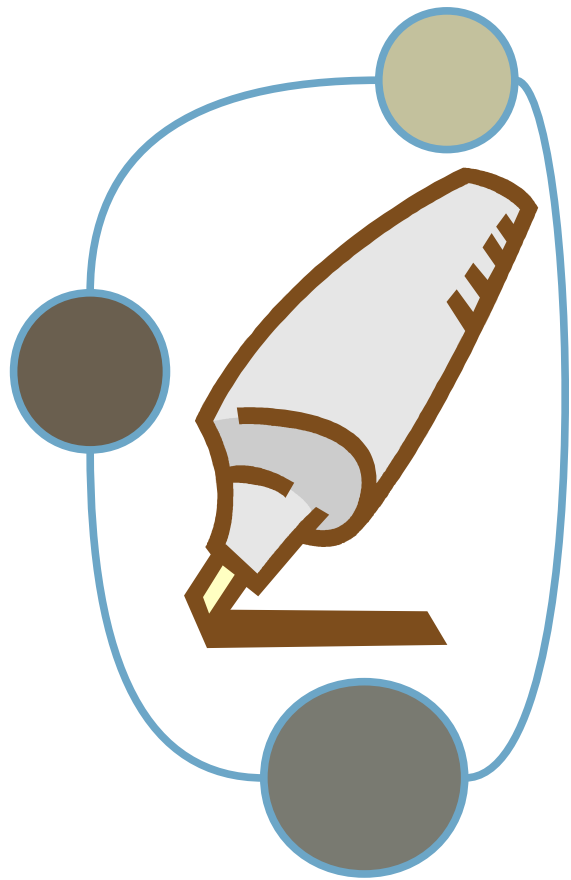
l'ultime but de la partie. Combien de buts ont été marqués lors de ce match ?





# Info importante

C'est le jour de piscine. Les 7 membres de la famille Durand sont heureux : les 2 parents ainsi que les 5 enfants de moins de 12 ans. Ils se rendent à la piscine. L'entrée coûte 8€ pour les adultes et 5€ pour les enfants. Combien de personnes de la famille Durand sont allées à la piscine aujourd'hui ?



# Info importante

Une école part en voyage sur l'île de Ré. La classe de CE1 compte 22 élèves, celle de CE2 compte 25 élèves et les CM2 sont 28.

Combien de classes participent au voyage scolaire?