

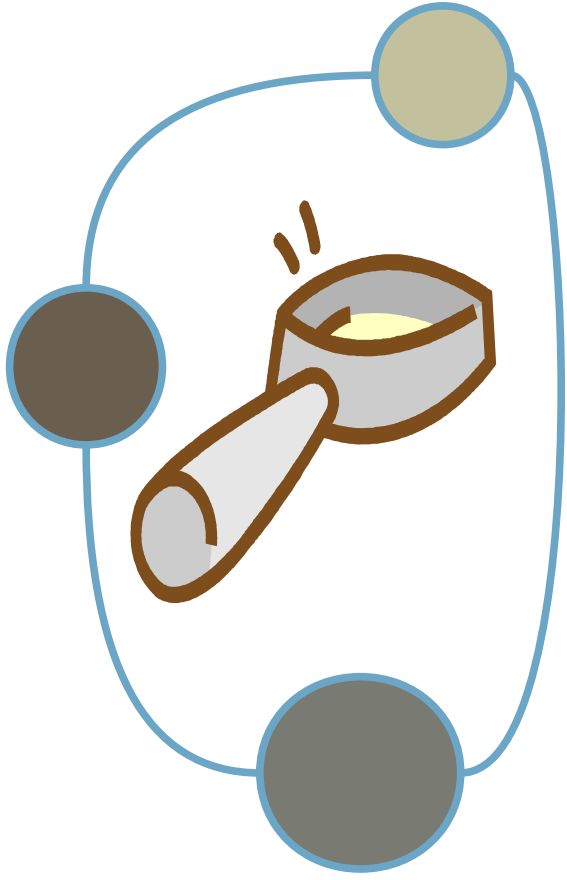
Info manquante

Magalie sort du magasin où elle a acheté de nouvelles tenues pour l'hiver : 2 blousons, 3 pulls à 15€ et des grosses chaussures à 45€.

Combien a-t-elle dépensé en tout ?

Réponse :
Le prix des blousons.

Info manquante

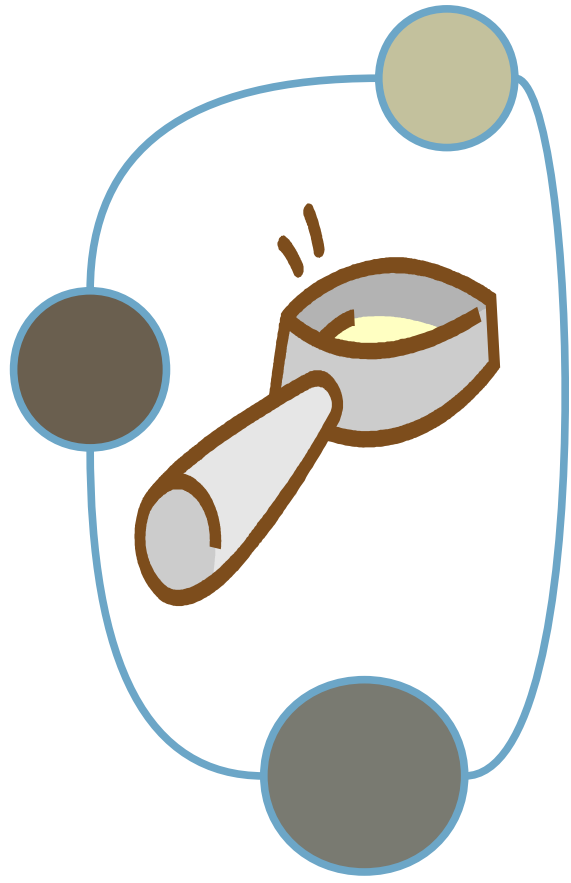


Luc a 8 ans. Sa sœur mesure 46 cm de plus que Luc.

Combien mesure la sœur de Luc ?

Réponse :
La taille de
Luc.

Info manquante

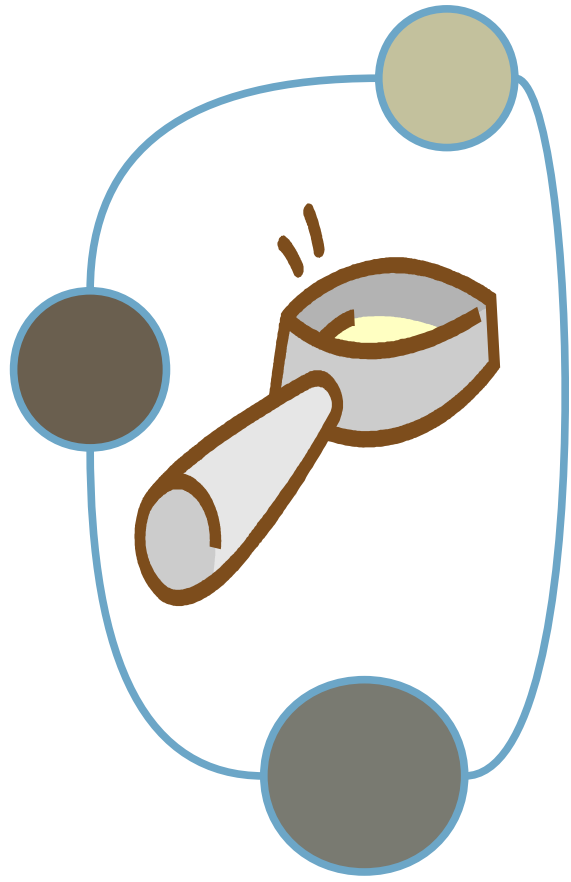


Au théâtre de la ville, il y a 35 places. Aujourd'hui, le théâtre est plein, toutes les places ont été vendues.

Quelle somme d'argent va récolter le théâtre ?

Réponse :
Le prix d'une place.

Info manquante

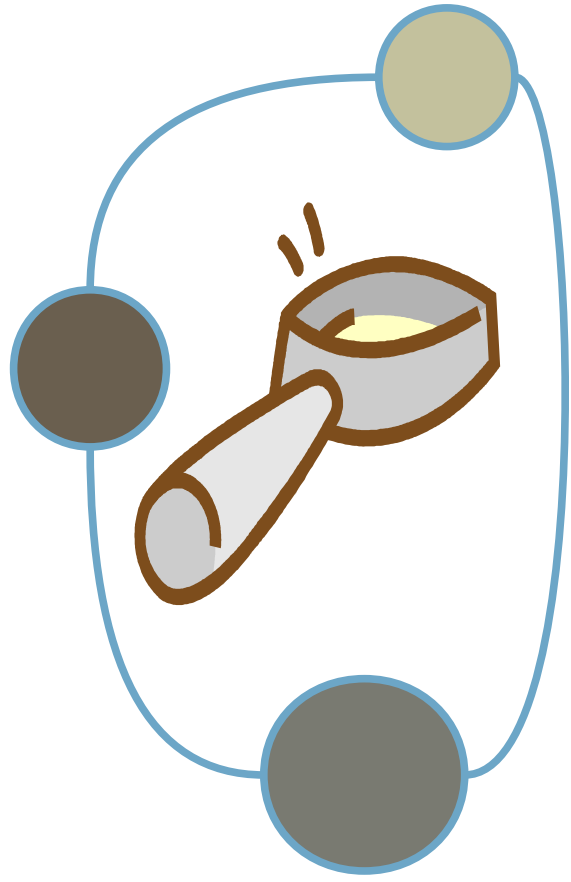


Dans le train Lyon-Paris, les wagons sont tous très grands. Ils contiennent chacun 20 sièges.

Combien de places y a-t-il dans tout le train ?

Réponse :
Le nombre de
wagons.

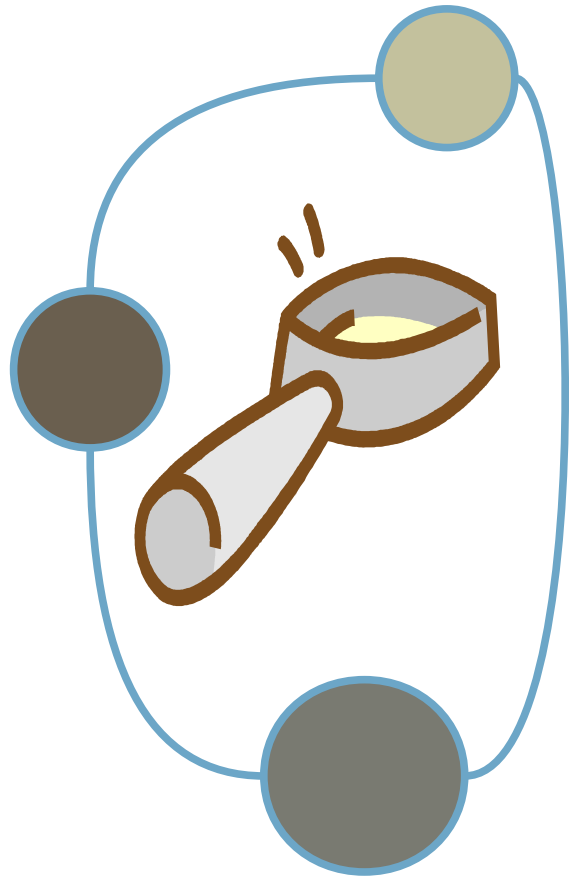
Info manquante



Antoine souhaite enregistrer son film préféré qui passe ce soir à la télévision à 20h30. Il veut l'enregistrer sur une cassette de 60min. La cassette va-t-elle suffire ?

Réponse :
L'heure de fin
du film ou la
durée du film.

Info manquante

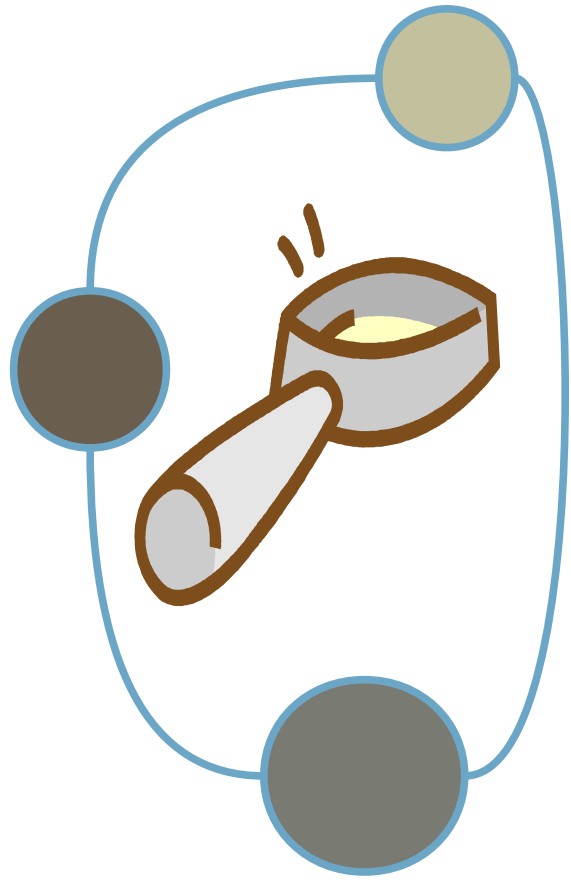


M. Durand a acheté des cartons qui contiennent des bouteilles de lait. Il a commandé 12 cartons pour ensuite les revendre dans son magasin.

Combien de bouteilles de lait M. Durand va-t-il recevoir ?

Réponse :
Le nombre de
bouteilles dans
un carton.

Info manquante



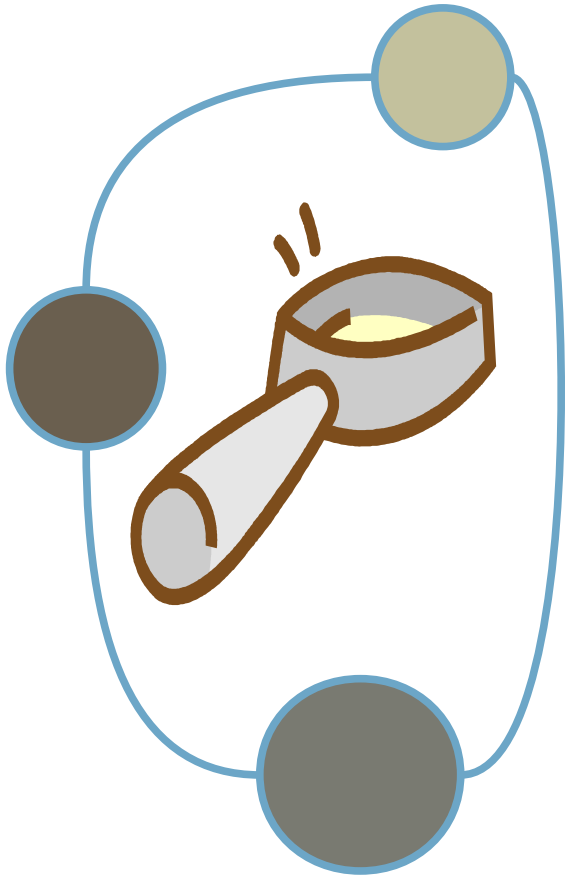
Pour la sortie au zoo, les enfants vont payer 3 euros l'entrée.
Combien vont-ils payer en tout ?

zoo.

Le nombre d'enfants qui participent à la sortie au

Réponse :

Info manquante

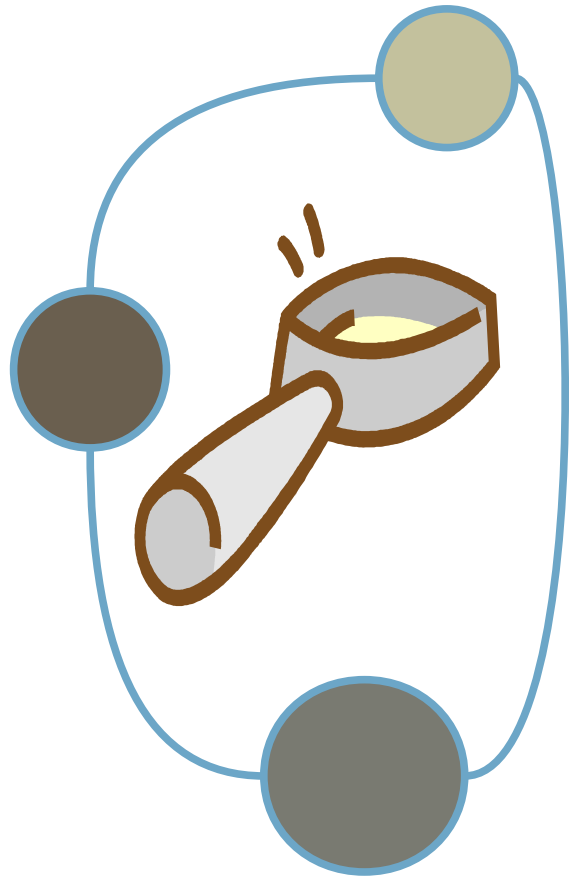


Lucie a deux fois plus de billes que Kevin.

Combien de billes à Lucie ?

Réponse :
Le nombre de
billes de Kevin

Info manquante

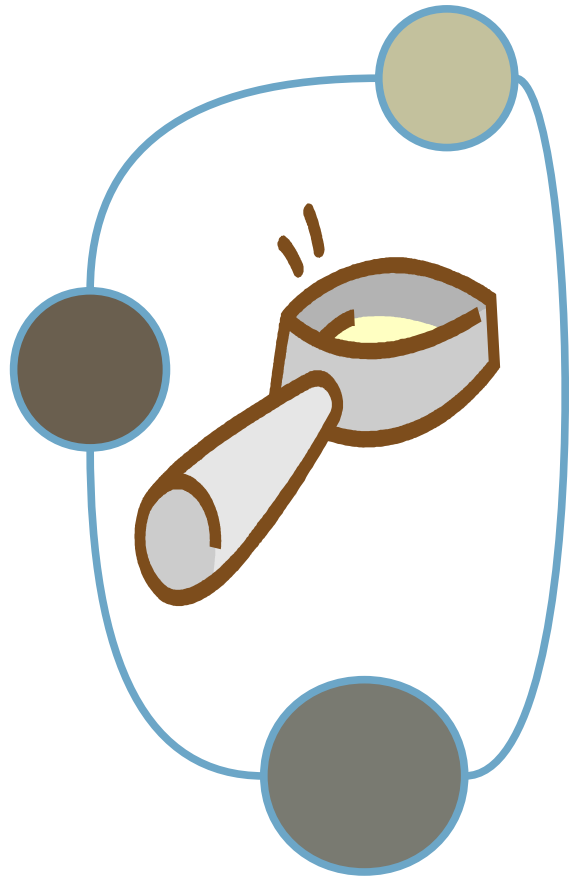


Un maraîcher ramasse les
abricots qui viennent de mûrir
dans ses champs. Il peut mettre
36 abricots dans une cagette.

Combien de cagettes doit-il
utiliser pour ranger tous ses
abricots ?

Réponse :
Il manque le
nombre
d'abricots
ramassés.

Info manquante

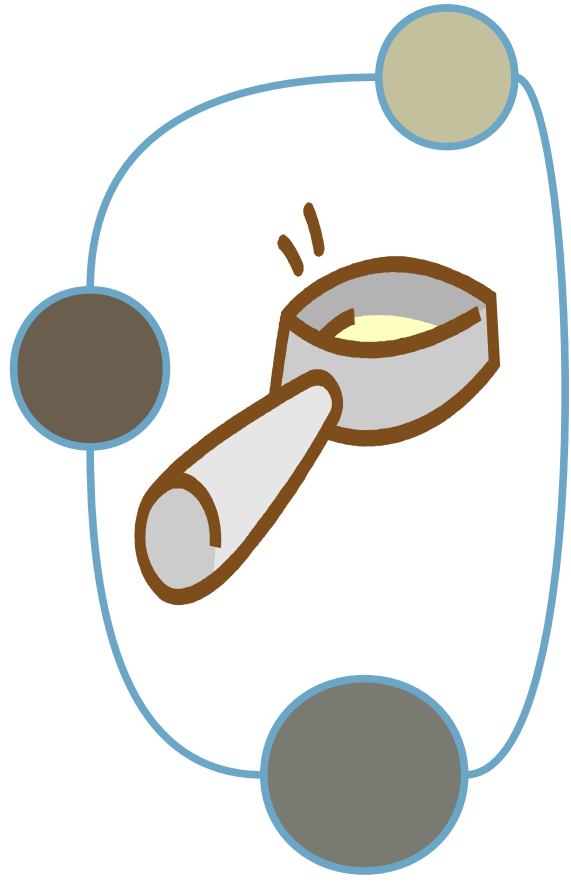


Depuis sa naissance, la tante de Matthieu lui verse 50 euros par an sur un compte bancaire qu'il pourra utiliser seulement à ses 18 ans.

Quelle somme d'argent a-t-il actuellement dans ce coffre ?

Réponse :
L'âge
de Matthieu

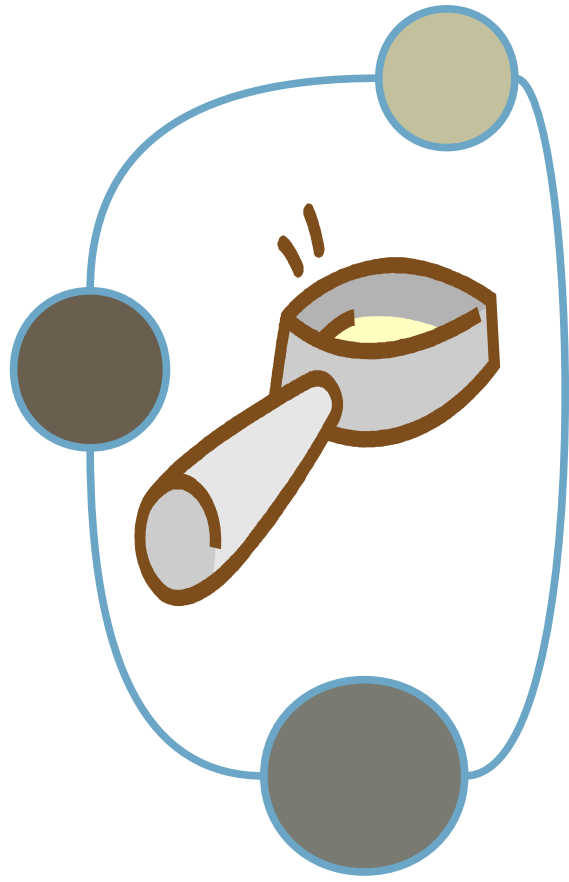
Info manquante



Mme Durand décide d'aller en Bretagne. Elle fait une partie du voyage en train et l'autre en voiture. Elle fait 354 km en voiture. Quelle distance lui reste-t-il à faire en train ?

Réponse :
La distance totale à faire pour aller en Bretagne.

Info manquante

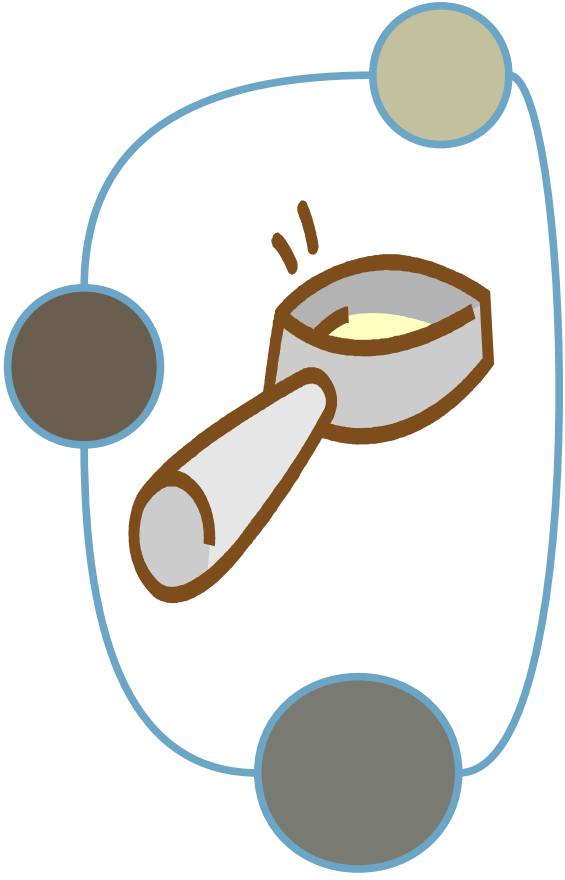


Au marché, j'ai acheté tout ce qu'il faut pour faire une salade de fruits : des pommes pour 3,34€ ; des poires et des oranges à 2,85€.

Combien vais-je payer en tout ?

Réponse :
Le prix des
poires.

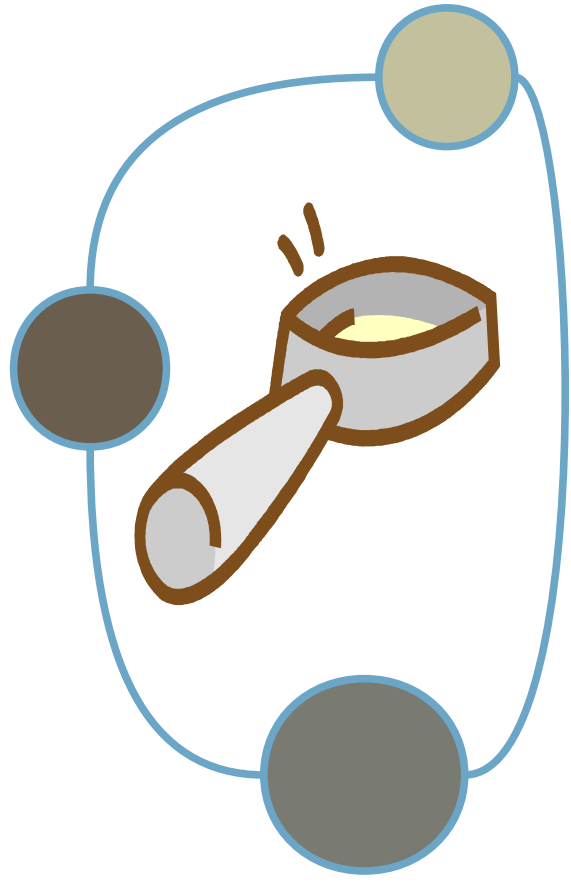
Info manquante



Amandine a acheté des fleurs pour décorer sa cuisine. Elle en voulait des bleues, des rouges et des jaunes. Elle a acheté 8 fleurs bleues et 6 fleurs jaunes. Combien a-t-elle acheté de fleurs en tout ?

Réponse :
Le nombre de fleurs rouges.

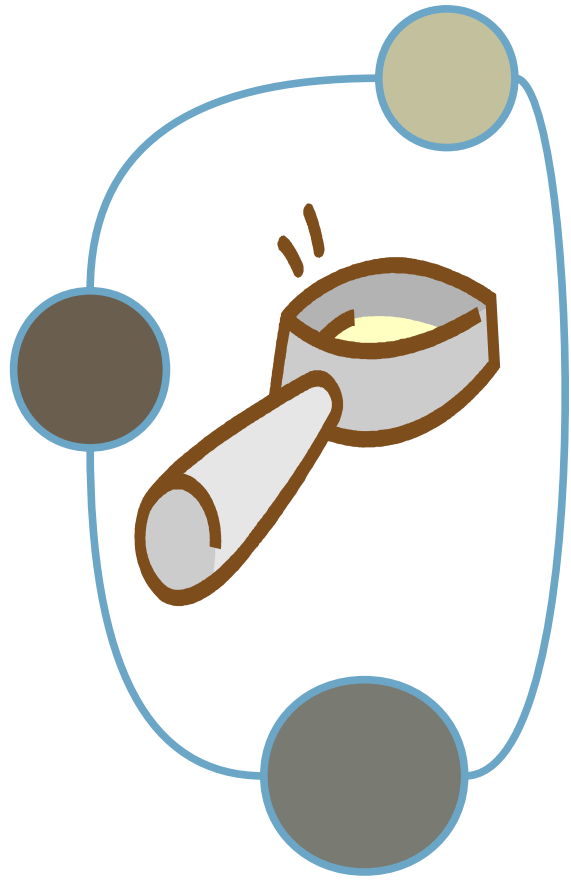
Info manquante



Au stade du club de rugby de la ville, il y a 125 supporters. Combien de places vides reste-t-il ?

Réponse :
Le nombre de
places
disponibles dans
le stade.

Info manquante

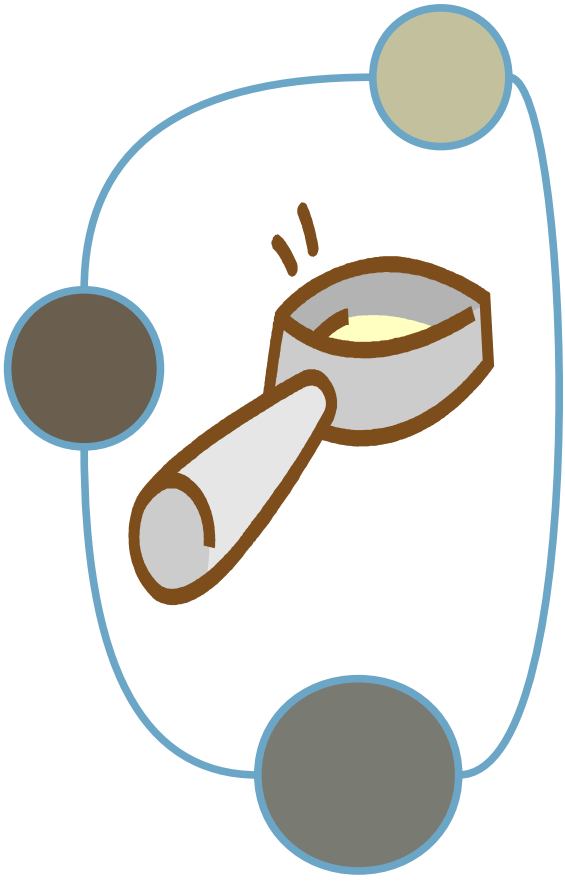


Le père de Lucas a pris des vacances. Il a décidé de partir une semaine en Bretagne, puis d'aller 4 jours chez ses grands-parents et enfin de rester à la maison le reste du temps.

Combien de jours de vacances a le père de Lucas cette année ?

Réponse :
Le nombre de
jours passés à
la maison.

Info manquante

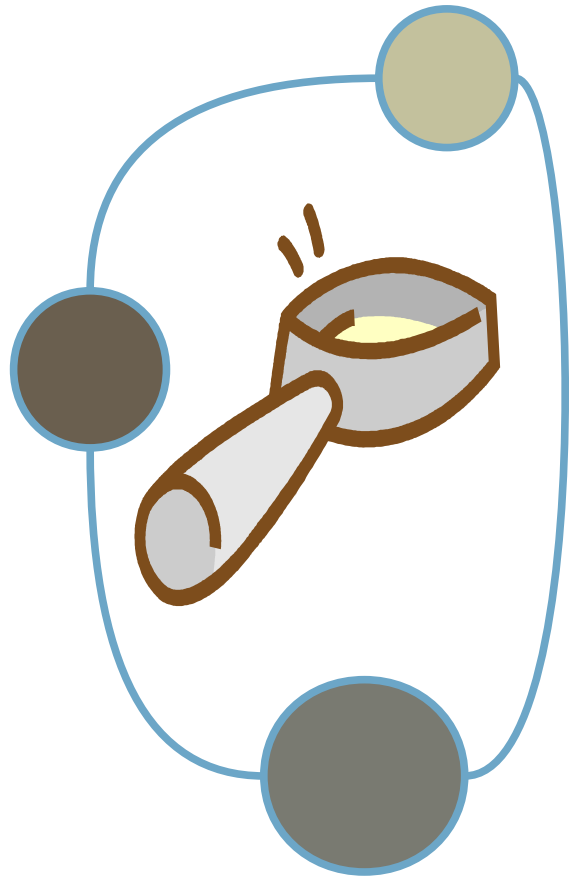


Rémi est né 3 ans après son frère aîné qui est né le 17 janvier.

Quel est l'âge de Rémi ?

Réponse :
L'année de
naissance du
frère de Rémi!

Info manquante

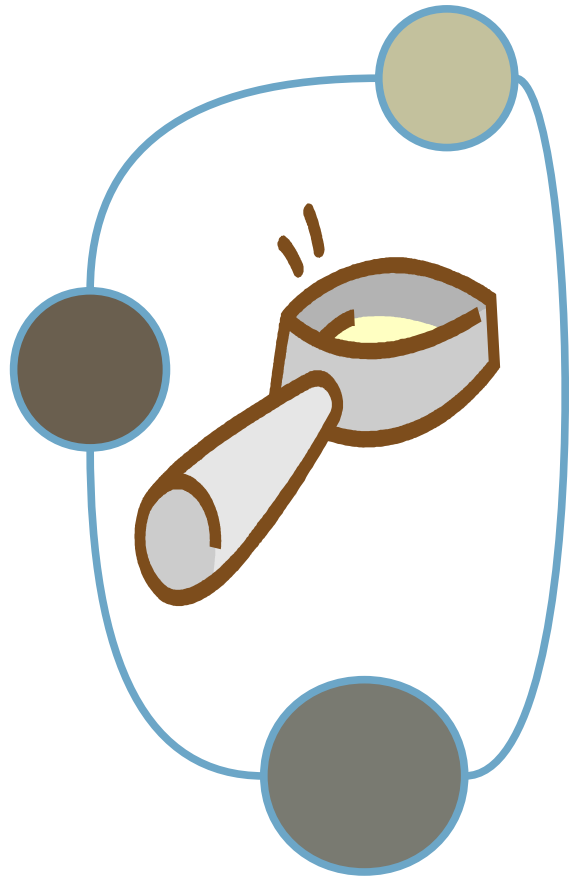


Le cerisier de mon jardin mesurait 153 cm l'année dernière. Cette année, il a grandi et a donné 3 kg de cerises.

A présent, quelle est la taille du cerisier ?

Réponse :
La taille de son
agrandissement.

Info manquante



Monsieur Lebreton achète au marché des oranges à 3 euros le kilo.

Combien va-t-il payer ?

Réponse :
Le poids
d'orange
qu'il
achète.